

# EXAME NACIONAL DO ENSINO MÉDIO

A COR DO SEU CADERNO DE QUESTÕES É CINZA  
MARQUE-A EM SEU CARTÃO-RESPOSTA



## 2011

2º DIA  
CADERNO  
6 CINZA

2ª APLICAÇÃO

## PROVA DE REDAÇÃO E DE LINGUAGENS, CÓDIGOS E SUAS TECNOLOGIAS PROVA DE MATEMÁTICA E SUAS TECNOLOGIAS

LEIA ATENTAMENTE AS INSTRUÇÕES SEGUINTE

- 1 Este CADERNO DE QUESTÕES contém a Proposta de Redação e 90 questões numeradas de 91 a 180, dispostas da seguinte maneira:
- as questões de número 91 a 135 são relativas à área de Linguagens, Códigos e suas Tecnologias;
  - as questões de número 136 a 180 são relativas à área de Matemática e suas Tecnologias.

**ATENÇÃO:** as questões de 91 a 95 são relativas à língua estrangeira. Você deverá responder apenas às questões relativas à língua estrangeira (inglês ou espanhol) escolhida no ato de sua inscrição.

- 2 Confira se o seu CADERNO DE QUESTÕES contém a quantidade de questões e se essas questões estão na ordem mencionada na instrução anterior. Caso o caderno esteja incompleto, tenha qualquer defeito ou apresente divergência, comunique ao aplicador da sala para que ele tome as providências cabíveis.
- 3 Verifique, no CARTÃO-RESPOSTA e na FOLHA DE REDAÇÃO, que se encontra no verso do CARTÃO-RESPOSTA, se os seus dados estão registrados corretamente. Caso haja alguma divergência, comunique-a imediatamente ao aplicador da sala.
- 4 **ATENÇÃO:** após a conferência, escreva e assinhe seu nome nos espaços próprios do CARTÃO-RESPOSTA e da FOLHA DE REDAÇÃO com caneta esferográfica de tinta preta.
- 5 **ATENÇÃO:** transcreva no espaço apropriado do seu CARTÃO-RESPOSTA, com sua caligrafia usual, considerando as letras maiúsculas e minúsculas, a seguinte frase:

**Sonhar é acordar-se para dentro.**

- 6 Marque no CARTÃO-RESPOSTA, no espaço apropriado, a opção correspondente à cor desta capa. **ATENÇÃO:** se você assinalar mais de uma opção de cor ou deixar todos os campos em branco, sua prova não será corrigida.
- 7 Não dobre, não amasse nem rasure o CARTÃO-RESPOSTA, pois ele não poderá ser substituído.
- 8 Para cada uma das questões objetivas, são apresentadas 5 opções identificadas com as letras **A**, **B**, **C**, **D** e **E**. Apenas uma responde corretamente à questão.

- 9 No CARTÃO-RESPOSTA, preencha todo o espaço compreendido no círculo correspondente à opção escolhida para a resposta. A marcação em mais de uma opção anula a questão, mesmo que uma das respostas esteja correta.
- 10 O tempo disponível para estas provas é de **cinco horas e trinta minutos**.
- 11 Reserve os 30 minutos finais para marcar seu CARTÃO-RESPOSTA. Os rascunhos e as marcações assinaladas no CADERNO DE QUESTÕES não serão considerados na avaliação.
- 12 Somente serão corrigidas as redações transcritas na FOLHA DE REDAÇÃO.
- 13 Quando terminar as provas, acene para chamar o aplicador e entregue este CADERNO DE QUESTÕES e o CARTÃO-RESPOSTA/FOLHA DE REDAÇÃO.
- 14 Você poderá deixar o local de prova somente após decorridas duas horas do início da aplicação e poderá levar seu CADERNO DE QUESTÕES ao deixar em definitivo a sala de provas nos últimos 30 minutos que antecedem o término da prova.
- 15 Você será excluído do exame no caso de:

- prestar, em qualquer documento, declaração falsa ou inexata;
- agir com incorreção ou descortesia para com qualquer participante ou pessoa envolvida no processo de aplicação das provas;
- perturbar, de qualquer modo, a ordem no local de aplicação das provas, incorrendo em comportamento indevido durante a realização do Exame;
- se comunicar, durante as provas, com outro participante verbalmente, por escrito ou por qualquer outra forma;
- utilizar qualquer tipo de equipamento eletrônico e de comunicação durante a realização do Exame;
- utilizar ou tentar utilizar meio fraudulento, em benefício próprio ou de terceiros, em qualquer etapa do Exame;
- utilizar livros, notas ou impressos durante a realização do Exame;
- se ausentar da sala de provas levando consigo o CADERNO DE QUESTÕES antes do prazo estabelecido e/ou o CARTÃO-RESPOSTA a qualquer tempo.




## PROPOSTA DE REDAÇÃO

Com base na leitura dos textos motivadores seguintes e nos conhecimentos construídos ao longo de sua formação, redija texto dissertativo-argumentativo em norma padrão da língua portuguesa sobre o tema **CULTURA E MUDANÇA SOCIAL**, apresentando proposta de ação social que respeite os direitos humanos. Selecione, organize e relacione, de forma coerente e coesa, argumentos e fatos para defesa de seu ponto de vista.

Fundado em 21 de janeiro de 1993, o Grupo Cultural AfroReggae foi criado para transformar a realidade de jovens moradores de favelas utilizando a educação, a arte e a cultura como instrumentos de inserção social. O embrião do projeto foi o jornal *AfroReggae Notícias*, cuja primeira edição circulou em agosto de 1992. O informativo — distribuído gratuitamente e sem anunciantes — logo se tornou um canal aberto para o debate de ideias e de problemas que afetam a vida de negros e pobres.

Desde então, o Grupo Cultural AfroReggae investe no potencial de jovens favelados, levando educação, cultura e arte a territórios marcados pela violência policial e pelo narcotráfico. Ao longo de seus 18 anos, o AfroReggae vem utilizando atividades artísticas, como percussão, circo, grafite, teatro e dança para tentar diminuir os abismos que separam negros e brancos, ricos e pobres, a favela e o asfalto, a fim de criar pontes de união entre os diferentes segmentos da sociedade.

Disponível em: <http://www.afroreggae.org.br>. Acesso em: 18 nov. 2010 (adaptado).



“Um país não muda pela sua economia, sua política e nem mesmo sua ciência; muda sim, pela sua cultura.”

Disponível em: <http://www.ibase.br>. Acesso em: 18 nov. 2010.

### Betinho: uma trajetória de luta

Herbert José de Souza, o Betinho, buscou a vida de forma intensa para si e para os outros, particularmente para os excluídos da sociedade. Seu humor e sua ironia juntavam-se a uma forte indignação diante da mínima injustiça.

Ele afirmava que a democracia não é um modelo ou uma estrutura acabada; é algo que constantemente deve ser sonhado, imaginado ou recriado. A busca de ser livre, igual, diverso, solidário e participante é um princípio que deve fermentar nosso constante sonhar e imaginar a democracia como guia de intervenção cidadã.

GRZYBOWSKI, C. Disponível em: <http://www.comitebetinho.org.br>. Acesso em: 18 nov. 2010 (adaptado).

### INSTRUÇÕES:

- O **rascunho** da redação deve ser feito no espaço apropriado.
- O **texto definitivo** deve ser escrito **à tinta**, na **folha própria**, em até **30 linhas**.
- A redação com até 7 (sete) linhas escritas será considerada “insuficiente” e receberá nota zero.
- A redação que fugir ao tema ou que não atender ao **tipo dissertativo-argumentativo** receberá nota zero.
- A redação que apresentar cópia dos textos da Proposta de Redação ou do Caderno de Questões terá o número de linhas copiadas desconsiderado para efeito de correção.

LINGUAGENS, CÓDIGOS E SUAS TECNOLOGIAS

Questões de 91 a 135

Questões de 91 a 95 (opção inglês)

QUESTÃO 91




"I START EVERY SONG BY COUNTING 1-2-3-4 BECAUSE IT REMINDS ME OF MATH. MATH DEPRESSES ME AND THAT HELPS ME SING THE BLUES."

GLASBERGEN, R. Today's cartoon. Disponível em: <http://www.glasbergen.com>. Acesso em: 23 jul. 2010.

Ao estabelecer uma relação entre a Matemática e o *blues* a partir da opinião pessoal de um dos rapazes, a charge sugere que

- A as canções iniciadas com a contagem de 1 a 4 fazem lembrar o *blues*.
- B o *blues*, com seu ritmo depressivo, alivia o sentimento causado pela Matemática.
- C as canções devem se iniciar com a contagem de 1 a 4 para se tornarem tristes.
- D o *blues*, assim como a Matemática, consegue despertar um sentimento inspirador.
- E o sentimento despertado pela Matemática serve como motivação para o *blues*.

QUESTÃO 92



Disponível em: <http://www.comics.com>. Acesso em: 28 abr. 2011.

A tirinha é um gênero textual que, além de entreter, trata de diferentes temas sociais. No caso dessa tirinha, as falas no 3º quadrinho revelam o foco do tema, que é

- A a curiosidade dos filhos ao interpelarem os pais.
- B a desobediência dos filhos em relação aos pais.
- C a paciência dos pais ao conversarem com os filhos.
- D a postura questionadora dos filhos em relação aos pais.
- E o cansaço dos pais em repetir as coisas para os filhos.



\* C I N Z 2 5 D O M 3 \*

### QUESTÃO 93

Last Monday was a really awful day. I got to school late because I had missed the bus. Then I had a Math test and did badly because I hadn't studied for it. Things went from bad to worse: while I was waiting for the bus home I realised I had lost my money so I had to walk home. I really wanted to go to the cinema with my parents that evening but by the time I got home they had already gone out. I put my dinner in the oven, went to watch TV and fell asleep. When I woke up an hour later, there was a terrible smell and smoke coming up the stairs: I had forgotten to take my dinner out of the oven.

ACEVEDO, A.; GOWER, M. *High Flyer*. Longman, 1996.

A intenção do narrador, nesse texto, é

- A descrever o incidente na cozinha.
- B justificar a perda de uma prova.
- C lamentar a perda da aula.
- D reclamar do atraso do ônibus.
- E relatar um dia de problemas.

### QUESTÃO 94

Mary Mac's mother's making Mary Mac marry me.  
My mother's making me marry Mary Mac.  
Will I always be so Merry when Mary's taking care of me?  
Will I always be so merry when I marry Mary Mac?  
(from a song by Carbon Leaf)

Disponível em: <http://www.uebersetzung.at>. Acesso em: 27 jun. 2011.

O trava-língua, além de funcionar como um exercício de pronúncia, também pode abordar assuntos relacionados à sociedade. No texto, o tema abordado refere-se

- A à união de duas pessoas que se amam há anos.
- B à decisão de Mary Mac de se casar com seu amor.
- C aos cuidados de Mary Mac com seu futuro esposo.
- D às dúvidas do filho sobre a felicidade após o casamento.
- E à felicidade da mãe com relação ao casamento da filha.

### QUESTÃO 95

#### Slumdog Millionaire

Danny Boyle's "Slumdog Millionaire" hits the ground running. This is a breathless, exciting story, heartbreaking and exhilarating at the same time, about a Mumbai orphan who rises from rags to riches on the strength of his lively intelligence. The film's universal appeal presents the real India to millions of moviegoers for the first time.

The real India, supercharged with a plot as reliable and eternal as the hills. The film's surface is so dazzling that you hardly realize how traditional it is underneath. But it's the buried structure that pulls us through the story like a big engine on a short train.

By the real India, I don't mean an unblinking documentary like Louis Malle's "Calcutta" or the recent "Born Into Brothels." I mean the real India of social levels that seem to be separated by centuries. What do people think of when they think of India? On the one hand, Mother Teresa, "Salaam Bombay!" and the wretched of the earth. On the other, the "Masterpiece Theater"-style images of "A Passage to India," "Gandhi" and "The Jewel in the Crown."

The film uses dazzling cinematography, breathless editing, driving music and headlong momentum to explode with narrative force, stirring in a romance at the same time.

EBERT, R. Disponível em: <http://rogerebert.suntimes.com>. Acesso em: 11 abr. 2011 (adaptado).

O texto trata do premiado filme indiano "Slumdog Millionaire". Segundo a resenha apresentada, a história retrata uma Índia real, uma vez que

- A retrata sentimentos universais compartilhados por algumas culturas.
- B revela a tradicional separação de classes sociais em um cenário inovador.
- C se assemelha a documentários anteriormente produzidos por outros cineastas.
- D representa o caráter romântico da cultura indiana expressa em suas produções.
- E aproxima a nova cinematografia indiana de filmes grandiosos produzidos em outros países.

## LINGUAGENS, CÓDIGOS E SUAS TECNOLOGIAS

Questões de 91 a 135

Questões de 91 a 95 (opção espanhol)

### QUESTÃO 91

En la Edad Media el rey Felipe IV de Francia, con el apoyo del papa Clemente V, ordenó las redadas para detener a todos los Templarios del país el viernes 13 de octubre de 1307, hecho al que se atribuye la leyenda de los malos augurios asociados a este día de la semana cuando cae en 13. El asalto a los Templarios alcanzó una gran notoriedad a causa de las escabrosas acusaciones que se les imputaron, la tortura a los que los sometieron los inquisidores.

Otros historiadores sugieren que el origen de la superstición es cristiano y se remonta a la Última Cena, que tuvo trece comensales (Jesús y sus doce discípulos), y tras la cual se produjo lugar la crucifixión de Jesús, precisamente en viernes.

Disponível em: <http://www.muyinteresante.es>. Acesso em: 23 jun. 2011 (adaptado).

Vários fatos ocorridos ao longo da história da humanidade foram reunidos sob um aspecto comum que vem a ser o tema do texto, a saber,

- A** a perseguição aos Templários.
- B** a superstição na sexta-feira 13.
- C** as torturas dos inquisidores.
- D** a crucificação de Jesus.
- E** a última ceia de Jesus.

### QUESTÃO 92

#### Algunos días feriados en España

Enero 1	Año Nuevo	Festividad Oficial
Marzo o Abril	Domingo de Ramos, jueves y viernes Santo, y domingo de Pascua: actividades religiosas y procesiones en la mayoría de los pueblos y ciudades	Festividad Oficial
Mayo 1	Día del Trabajador	Festividad Oficial
Julio 25	Día de Santiago Apóstol Patrono de España para la Iglesia Católica	No se festeja en todo el país
Agosto 15	Día de la Ascensión de la Virgen María	Festividad Oficial
Octubre 12	Día Nacional de España, Fecha del Descubrimiento de América, Día de la Hispanidad y de Nuestra Señora del Pilar	Festividad Oficial
Noviembre 1	Día de Todos los Santos	Festividad Oficial
Diciembre 6	Día de la Constitución	Festividad Oficial
Diciembre 8	Día de la Inmaculada Concepción: Patrona de España para la Iglesia Católica	Festividad Oficial
Diciembre 25	Día de Navidad	Festividad Oficial

Disponível em: <http://www.franklin.com>. Acesso em: 1 maio 2009 (adaptado).

Suponha que uma pessoa queira visitar a Espanha e deseje planejar sua visita de acordo com os feriados nacionais espanhóis. Ao observar o calendário com alguns dos principais feriados espanhóis, essa pessoa constatará que, na Espanha,

- A** poucos feriados são oficiais.
- B** a Semana Santa tem uma data precisa.
- C** no décimo mês do ano existem feriados.
- D** poucos feriados têm relação com a religião.
- E** quase todos os feriados ocorrem na segunda metade do ano.


**QUESTÃO 93**

El peso y el olor a rancio de los libros de tapa dura están a un paso más cerca de convertirse en reliquia de museo. Es que Amazon.com, una de las librerías más grandes de Estados Unidos, anunció que en los tres últimos meses las ventas de libros electrónicos para Kindle, el e-reader de Amazon, superaron por primera vez a las de volúmenes de papel.

El hecho de que los e-books se vendan hoy más que los de papel es algo “asombroso si se tiene en cuenta que vendemos libros de tapa dura desde hace 15 años y (libros) Kindle desde hace 33 meses”, indicó en una declaración Jeffrey Bezos, principal ejecutivo de Amazon.com.

Disponível em: <http://www.clarin.com>. Acesso em: 24 jul. 2010 (adaptado).

Extraída de um jornal argentino, a reportagem enfatiza uma mudança causada pelas novas tecnologias. Tomando-se como base os dados apresentados e a fala do entrevistado, constata-se que a intenção do autor ao produzir essa reportagem foi

- A anunciar que a venda de livros eletrônicos superou a de impressos na Amazon.com.
- B informar que a Amazon.com está em primeiro lugar na venda de livros eletrônicos.
- C comunicar que a Amazon.com interrompeu a venda de livros de capa dura.
- D divulgar o lançamento de novos livros eletrônicos no site da Amazon.com.
- E apresentar as expectativas da Amazon.com sobre novas vendas.

**QUESTÃO 94**

En América, los incas y aztecas cultivaban la planta que llamaban *tomatl* ya desde 700 años a. de C. Cuando fue llevada a Europa se destacó por su valor ornamental y por la belleza de sus frutos, que en su versión amarilla merecieron un nombre en italiano: *pomodoro*, esto es, manzana de oro. Utilizada como planta ornamental en patios y jardines, por entonces quedó asociada a otras solanáceas venenosas, como la belladona, así que se consideraba que también lo era. No en vano, sus hojas contienen, como las de la planta de la papa, un alcaloide llamado solanina. Hasta el siglo XIX los tomates no fueron universalmente aceptados como alimento, e incluso entonces todavía se cocían durante horas para eliminar sus “venenos”. Hoy están entre los vegetales más consumidos y deben su prestigio nutricional, sobre todo, al contenido en vitamina C y betacaroteno.

Muy interesante. N° 212. Buenos Aires: GF, mar. 2005 (adaptado).

Considerando-se as informações apresentadas e o provável público-alvo, o texto foi construído com a intenção de

- A alertar sobre as características tóxicas do tomate.
- B destacar a importância do tomate de cor amarela.
- C discorrer sobre a origem do tomate e seus usos no mundo.
- D incentivar o consumo do tomate por seus benefícios para a saúde.
- E estimular o uso do tomate como objeto ornamental.

**QUESTÃO 95**
**El día de los muertos en México (2 de noviembre)**

Este día se celebra la máxima festividad de los muertos en México. La celebración está llena de muchas costumbres. A las personas les gusta ir y llevar flores a las tumbas de sus muertos pero para otras representa todo un rito que comienza en la madrugada cuando muchas familias hacen altares de muertos sobre las lápidas de sus difuntos familiares. Estos altares tienen un gran significado ya que con ellos se cree que se ayuda a sus muertos a llevar un buen camino durante la muerte. Esta creencia es una mezcla de las tradiciones religiosas precolombinas y la católica. Otros altares más complejos, según la tradición, deben de constar de 7 niveles o escalones que representan los niveles que tiene que pasar el alma de un muerto para poder descansar. Estos altares se realizan generalmente en lugares con gran espacio.

Disponível em: <http://www.sanmiguelguide.com>. Acesso em: 22 maio 2009 (adaptado).



Disponível em: <http://www.educima.com>. Acesso em: 22 maio 2009.

Como no Brasil, o México também homenageia seus mortos no dia 2 de novembro, mas cada lugar tem suas próprias características. Baseando-se no texto, a origem dessa celebração no México deve-se

- A à mistura entre a tradição cristã e as religiões que existiam antes no país.
- B à família mexicana, que gosta de levar flores aos cemitérios.
- C à festa que ajuda os mortos a irem por um bom caminho no além.
- D aos altares que têm a função de enfeitar os cenários da festa.
- E às cerimônias que são celebradas dentro das casas das famílias.

QUESTÃO 96

O Ensino no Novo Milênio

Tecnicamente, o *e-learning* é o ensino realizado através de meios eletrônicos. É basicamente um sistema hospedado no servidor de uma empresa de qualquer tamanho — ou de pessoa física — que vai transmitir, pela internet ou intranet, informações e instruções aos alunos, visando agregar conhecimento específico. O sistema pode substituir total ou, o que é mais comum, parcialmente, o instrutor como o condutor do processo de ensino.

PEREIRA, J. *Meu Próprio Negócio*. São Paulo, nº 87, maio 2010.

A utilização de meios eletrônicos no processo de ensino e aprendizagem é uma realidade da vida contemporânea. O aluno acessa informações e segue instruções visando agregar conhecimento na aprendizagem por meio da educação a distância, a qual

- Ⓐ promove, no âmbito da educação profissional, a reflexão teórica em detrimento da prática.
- Ⓑ potencializa a autonomia dos sujeitos de aprendizagem e o caráter colaborativo do processo.
- Ⓒ prescinde da atuação de um profissional da área pedagógica, substituído pelas ferramentas tecnológicas.
- Ⓓ proporciona mudança de *status* social aos estudantes no novo milênio, pela facilidade de interação.
- Ⓔ depende de conhecimento técnico específico da área de informática, o que demonstra sua ineficácia atual.

QUESTÃO 97



I



II



III



IV

Figura I: Disponível em: <http://www.dicasdedanca.com.br>. Figura II: Disponível em: <http://www.canalkids.com.br>.  
Figura III: Disponível em: <http://2.bp.blogspot.com>. Figura IV: Disponível em: <http://esporaprata.zip.net>. Acessos em: 1 maio 2010.

Cada região do país, por meio de suas danças populares, expressa sua cultura, que envolve aspectos sociais, econômicos, históricos, entre outros. As danças provocam a associação entre música e ritmo e o desenvolvimento de maior sensibilidade dos órgãos sensoriais. A ampliação da intensidade da audição aumenta a concentração, possibilitando o processo de transformação do ritmo musical em movimento espontâneo. Como exemplo de danças, tem-se o carimbó, na região Norte, e as danças gaúchas, na região Sul.

Nesse contexto, as danças populares permitem a descontração, o desenvolvimento e o descanso por serem atividades lúdicas que

- Ⓐ promovem a interação, o conhecimento de diferentes ritmos e permitem minimizar o estresse da vida diária.
- Ⓑ reduzem a participação, promovem competições em festivais e o conhecimento de outros ritmos.
- Ⓒ impedem a socialização de todos, reduzindo a expressividade, por exigir habilidades corporais e espontaneidade.
- Ⓓ permitem o desligamento dos elementos históricos, relacionando-as com os movimentos políticos e sociais.
- Ⓔ reduzem a expressão corporal e as experiências, por utilizarem símbolos de outras culturas.



### QUESTÃO 98

O esporte, as ginásticas, a dança, as artes marciais, as práticas de aptidão física tornam-se, cada vez mais, produtos de consumo (mesmo que apenas como imagens) e objetos de conhecimento e informação amplamente divulgados ao grande público. Jornais, revistas, videogames, rádio e televisão difundem ideias sobre a cultura corporal do movimento.

BETTI, M.; ZULIANI, L. R. Educação Física Escolar: uma proposta de diretrizes pedagógicas. Revista Mackenzie de Educação Física e Esporte. São Paulo, 2002.

Essa difusão possibilitou o acesso a uma diversidade de atividades físicas e esportes coletivos praticados ao redor do mundo, que

- A promoveu um aumento, no Brasil, da prática de esportes como a ginástica e uma diminuição da prática do voleibol e basquetebol.
- B permitiu uma maior compreensão de esportes praticados em alguns países e/ou comunidades, de acordo com as suas características sociais e regionais.
- C diminuiu a prática de esportes desse tipo em algumas regiões do Brasil, pois são considerados excessivamente agressivos e necessitam de muitos jogadores.
- D aumentou o número de pessoas ao redor do mundo que praticam esportes desse tipo e diminuiu a prática das artes marciais como o karatê.
- E estimulou o ensino de algumas lutas, como, por exemplo, a capoeira, por ser considerada étnica e envolver um único grupo social.

### QUESTÃO 99

Como a ideia de gênero está fundada nas diferenças biológicas entre os sexos, ela aponta para o caráter implicitamente relacional do feminino e do masculino. Assim, gênero é uma categoria relacional porque leva em conta o outro sexo, em presença ou ausência. Além disso, relaciona-se com outras categorias, pois não somos vistos(as) de acordo apenas com nosso sexo ou com o que a cultura fez dele, mas de uma maneira muito mais ampla: somos classificados(as) de acordo com nossa idade, raça, etnia, classe social, altura e peso corporal, habilidades motoras, entre muitas outras.

SOUSA, E. S.; ALTMANN, H. Meninos e meninas: expectativas corporais e implicações na educação física escolar. Cadernos Cedex. Ano XIX, nº 48, ago. 1999.

Diante do exposto, é possível perceber que as diferenças entre sexo masculino e feminino se encontram em todos os campos de atividades. Atualmente, no campo da prática de atividades físicas, percebe-se

- A um aumento da participação, tanto do sexo feminino como do sexo masculino, na prática de exercícios e jogos que eram exclusivamente pertencentes a um determinado sexo, incluindo as pessoas com deficiência.
- B uma manutenção na prática de exercícios direcionados ao uso de força física somente para os homens e outros que exigem delicadeza exclusivamente para as mulheres.
- C um aumento da oferta por espaços que permitem praticar exercícios ao ar livre e/ou em academias direcionados a recreação e jogos, voltados para homens e mulheres, separando-os em razão de suas diferenças.
- D uma manutenção das diferenças entre os sexos feminino e masculino, porém com um aumento significativo de mulheres que deixaram de praticar exercícios por não encontrar uma atividade adequada ao seu corpo.
- E um aumento da procura por parte do sexo masculino de exercícios que propiciam relaxamento, educação postural e alongamento, com o objetivo de melhorar o desempenho na prática da musculação.

### QUESTÃO 100

O esporte de alto rendimento envolve atividades físicas de caráter competitivo, no qual os atletas competem consigo mesmos ou com outros, sujeitando-se a regras preestabelecidas aprovadas pelos organismos internacionais ou nacionais de cada modalidade.

As grandes competições são reservadas aos grandes talentos e possibilitam a promoção de espetáculos que

- A geram modelos de atletas, que passam a ser exemplos seguidos por jovens e crianças.
- B permitem aos espectadores assistirem às partidas, fazendo parte de equipes.
- C minimizam as possibilidades de participação e procura pelas práticas esportivas.
- D incentivam o abandono das práticas esportivas, além do sedentarismo nos indivíduos.
- E possibilitam aos espectadores desenvolvimento tático e participação nas equipes.

**QUESTÃO 101**

**Brazil, capital Buenos Aires**

No dia em que a bossa nova inventou o Brazil  
Teve que fazer direito, senhores pares,  
Porque a nossa capital era Buenos Aires,  
A nossa capital era Buenos Aires.  
E na cultura-Hollywood o cinema dizia  
Que em Buenos Aires havia uma praia  
Chamada Rio de Janeiro  
Que como era gelada só podia ter  
Carnaval no mês de fevereiro.  
Naquele Rio de Janeiro o tango nasceu  
E Mangueira o imortalizou na avenida  
Originária das tangas  
Com que as índias fingiam  
Cobrir a graça sagrada da vida.

Tom Zé. Disponível em <http://letras.terra.com.br>. Acesso em: abr. 2010.

O texto de Tom Zé, crítico de música, letrista e cantor, insere-se em um contexto histórico e cultural que, dentro da cultura literária brasileira, define-se como

- A** contemporâneo à poesia concretista e por ela influenciado.
- B** sucessor do Romantismo e de seus ideais nacionalistas.
- C** expressão do modernismo brasileiro influenciado pelas vanguardas europeias.
- D** representante da literatura engajada, de resistência ao Estado Novo.
- E** precursor do movimento de afirmação nacionalista, o Tropicalismo.

**QUESTÃO 102**



Michelangelo.  
**Pietà**, século XV.



Vicente do Rego Monteiro.  
**Pietà**, 1924.

Vicente do Rego Monteiro foi um dos pintores, cujas telas foram expostas durante a Semana de Arte Moderna. Tal como Michelangelo, ele se inspirou em temas bíblicos, porém com um estilo peculiar. Considerando-se as obras apresentadas, o artista brasileiro

- A** estava preocupado em retratar detalhes da cena.
- B** demonstrou irreverência ao retratar a cena bíblica.
- C** optou por fazer uma escultura minimalista, diferentemente de Michelangelo.
- D** deu aos personagens traços cubistas, em vez dos traços europeus, típicos de Michelangelo.
- E** reproduziu o estilo da famosa obra de Michelangelo, uma vez que retratou a mesma cena bíblica.

**QUESTÃO 103**

Ele se aproximou e com a voz cantante de nordestino que a emocionou, perguntou-lhe:

- E se me desculpe, senhorinha, posso convidar a passear?
- Sim, respondeu atabalhoadamente com pressa, antes que ele mudasse de ideia.
- E se me permite, qual é mesmo a sua graça?
- Macabea.
- Maca — o quê?
- Bea, foi ela obrigada a completar.
- Me desculpe mas até parece doença, doença de pele.

— Eu também acho esquisito mas minha mãe botou ele por promessa a Nossa Senhora da Boa Morte se eu vingasse, até um ano de idade eu não era chamada porque não tinha nome, eu preferia continuar a nunca ser chamada em vez de ter um nome que ninguém tem mas parece que deu certo — parou um instante retomando o fôlego perdido e acrescentou desanimada e com pudor — pois como o senhor vê eu vinguei... pois é...

[...]

Numa das vezes em que se encontraram ela afinal perguntou-lhe o nome.

— Olímpico de Jesus Moreira Chaves — mentiu ele porque tinha como sobrenome apenas o de Jesus, sobrenome dos que não têm pai. [...]

— Eu não entendo o seu nome — disse ela. — Olímpico?

Macabea fingia enorme curiosidade escondendo dele que ela nunca entendia tudo muito bem e que isso era assim mesmo. Mas ele, galinho de briga que era, arrepiou-se todo com a pergunta tola e que ele não sabia responder. Disse aborrecido:

- Eu sei mas não quero dizer!
- Não faz mal, não faz mal, não faz mal... a gente não precisa entender o nome.

LISPECTOR, C. **A hora da estrela**. Rio de Janeiro: J. Olympio, 1978 (fragmento).

Na passagem transcrita, a caracterização dos personagens e o diálogo que elas estabelecem revelam alguns aspectos centrais da obra, entre os quais se destaca a

- A** ênfase metalinguística nas falas dos personagens, conscientes de sua limitação linguística e discursiva.
- B** relação afetiva dos personagens, por meio da qual tentam superar as dificuldades de comunicação.
- C** expressividade poética dos personagens, que procuram compreender a origem de seus nomes.
- D** privação da palavra, que denota um dos fatores da exclusão social vivida pelos personagens.
- E** consciência dos personagens de que o fingimento é uma estratégia argumentativa de persuasão.

**QUESTÃO 104**

Gravuras e pinturas são duas modalidades da prática gráfica rupestre, feitas com recursos técnicos diferentes. Existem vastas áreas nas quais há dominância de uma ou outra técnica no Brasil, o que não impede que ambas coexistam no mesmo espaço. Mas em todas as regiões há mãos, pés, antropomorfos e zoomorfos. Os grafismos realizados em blocos ou paredes foram gravados por meio de diversos recursos: picoteamento, entalhes e raspados.

DANTAS, M. *Antes: história da pré-história*. Brasília: CCBB, 2006.



Disponível em: <http://www.scipione.com.br>. Acesso em: 30 abr. 2009.

Nas figuras que representam a arte da pré-história brasileira e estão localizadas no sítio arqueológico da Serra da Capivara, estado do Piauí, e, com base no texto, identificam-se

- A** imagens do cotidiano que sugerem caçadas, danças, manifestações rituais.
- B** cenas nas quais prevalece o grafismo entalhado em superfícies previamente polidas.
- C** aspectos recentes, cujo procedimento de datação indica o recuo das cronologias da prática pré-histórica.
- D** situações ilusórias na reconstituição da pré-história, pois se localizam em ambientes degradados.
- E** grafismos rupestres que comprovam que foram realizados por pessoas com sensibilidade estética.

**QUESTÃO 105**

**Morte e vida Severina**

Somos muitos Severinos  
 iguais em tudo na vida:  
 na mesma cabeça grande  
 que a custo é que se equilibra,  
 no mesmo ventre crescido  
 sobre as mesmas pernas finas,  
 e iguais também porque o sangue  
 que usamos tem pouca tinta.  
 E se somos Severinos  
 iguais em tudo na vida,  
 morremos de morte igual,  
 mesma morte Severina:  
 que é a morte de que se morre  
 de velhice antes dos trinta  
 de emboscada antes dos vinte,  
 de fome um pouco por dia.

MELO NETO, J. C. *Obra completa*. Rio Janeiro: Nova Aguilar, 1994 (fragmento).

Nesse fragmento, parte de um auto de Natal, o poeta retrata uma situação marcada pela

- A** presença da morte, que universaliza os sofrimentos dos nordestinos.
- B** figura do homem agreste, que encara ternamente sua condição de pobreza.
- C** descrição sentimentalista de Severino, que divaga sobre questões existenciais.
- D** miséria, à qual muitos nordestinos estão expostos, simbolizada na figura de Severino.
- E** opressão socioeconômica a que todo ser humano se encontra submetido.

**QUESTÃO 106**

O acesso à educação profissional e tecnológica pode mudar a vida de milhões de jovens em todo o país: há uma nova lei do estágio. Com a nova lei, o governo federal define o estágio profissional como ato educativo e determina medidas para que esta atividade contribua para familiarizar o futuro profissional com o mundo do trabalho. Entre as medidas estabelecidas, estão: a obrigatoriedade da supervisão por parte do professor da instituição de origem do estudante com o auxílio de um profissional no local de trabalho, a definição de jornada máxima de trabalho de quatro a seis horas.

*Carta na Escola*. Nº 32, dez. 2008/jan. 2009 (adaptado).

Ao listar as mudanças ocorridas na legislação referente ao estágio, o autor do texto tem como objetivo

- A** familiarizar milhões de jovens estudantes com o seu futuro profissional.
- B** mostrar que as políticas públicas favorecem os trabalhadores da educação.
- C** incentivar a obrigatoriedade da supervisão por parte do professor.
- D** familiarizar o leitor com as instituições que definem o ensino profissionalizante.
- E** apresentar as novas normas que definem o estágio profissional para estudantes.

**Imagem para as questões 107 e 108**



LÉGER, F. *Soldados jogando cartas*. 1917.

FARTHING, S. *Coleção Grandes Artistas*. Rio de Janeiro: Sextante, 2009.

**QUESTÃO 107**

As vanguardas europeias não devem ser vistas isoladamente, uma vez que elas apresentam alguns conceitos estéticos e visuais que se aproximam. Com base nos conceitos vanguardistas, entre eles o de exploração de formas geométrizadas do Cubismo, no início do século XX, o quadro *Soldados jogando cartas* explora uma

- A abordagem sentimentalista do homem.
- B imagem plana para expressar a industrialização.
- C aproximação impossível entre máquina e homem.
- D uniformidade de tons como crítica à industrialização.
- E mecanização do homem expressa por formas tubulares.

**QUESTÃO 108**

Fernand Léger, artista francês envolvido com o movimento cubista, tinha como princípio transformar imagens em figuras geométricas, especialmente cones, esferas e cilindros. A obra apresentada mostra o homem em uma alusão à Revolução Industrial e ao pós I Guerra Mundial e explora

- A as formas retilíneas e mecanizadas, sem valorização da questão espacial.
- B as formas delicadas e sutis, para humanizar o operário da indústria têxtil.
- C a força da máquina na vida do trabalhador pelo jogo de formas, luz/sombra.
- D os recursos oriundos de um mesmo plano visual para dar sentido a sua proposta.
- E a forma robótica dada aos operários, privilegiando os aspectos triangulares.

**QUESTÃO 109**

— Adiante... Adiante... Não pares... Eu vejo. Canaã! Canaã!

Mas o horizonte da planície se estendia pelo seio da noite e se confundia com os céus.

Milkau não sabia para onde o impulso os levava: era o desconhecido que os atraía com a poderosa e magnética força da ilusão. Começava a sentir a angustiada sensação de uma corrida no Infinito...

— Canaã! Canaã!... suplicava ele em pensamento, pedindo à noite que lhe revelasse a estrada da Promissão.

E tudo era silêncio, e mistério... Corriam... corriam. E o mundo parecia sem fim, e a terra do Amor mergulhada, sumida na névoa incomensurável... E Milkau, num sofrimento devorador, ia vendo que tudo era o mesmo; horas e horas, fatigados de voar, e nada variava, e nada lhe aparecia... Corriam... corriam...

ARANHA, G. *Canaã*. São Paulo: Ática, 1998 (fragmento).

O sonho da terra prometida revela-se como valor humano que faz parte do imaginário literário brasileiro desde a chegada dos portugueses. Ao descrever a situação final das personagens Milkau e Maria, Graça Aranha resgata esse desejo por meio de uma perspectiva

- A subjetiva, pois valoriza a visão exótica da pátria brasileira.
- B simbólica, pois descreve o amor de um estrangeiro pelo Brasil.
- C idealizada, pois relata o sonho de uma pátria acolhedora de todos.
- D realista, pois traz dados de uma terra geograficamente situada.
- E crítica, pois retrata o desespero de quem não alcançou sua terra.

**QUESTÃO 110**

O RETIRANTE ENCONTRA DOIS HOMENS CARREGANDO UM DEFUNTO NUMA REDE, AOS GRITOS DE: "Ó IRMÃOS DAS ALMAS! IRMÃOS DAS ALMAS! NÃO FUI EU QUE MATEI NÃO"

- A quem estais carregando,  
Irmãos das almas,  
Embrulhado nessa rede?  
Dizei que eu saiba.
- A um defunto de nada,  
Irmão das almas,  
Que há muitas horas viaja  
À sua morada.
- E sabeis quem era ele,  
Irmãos das almas,  
Sabeis como ele se chama  
Ou se chamava?
- Severino Lavrador,  
Irmão das almas,  
Severino Lavrador,  
Mas já não lavra.

MELO NETO, J. C. *Morte e vida Severina e outros poemas para vozes*. Rio de Janeiro: Nova Fronteira, 1994 (fragmento).

O personagem teatral pode ser construído tanto por meio de uma tradição oral quanto escrita. A interlocução entre oralidade regional e tradição religiosa, que serve de inspiração para autores brasileiros, parte do teatro português. Dessa forma, a partir do texto lido, identificam-se personagens que

- A se comportam como caricaturas religiosas do teatro regional.
- B apresentam diferentes características físicas e psicológicas.
- C incorporam elementos da tradição local em um contexto teatral.
- D estão construídos por meio de ações limitadas a um momento histórico.
- E fazem parte de uma cultura local que restringe a dimensão estética.



\* C I N Z 2 5 D O M 1 1 \*



### QUESTÃO 111

Quando Rubem Braga não tinha assunto, **ele** abria a janela e encontrava um. Quando não encontrava, dava no mesmo, **ele** abria a janela, olhava o mundo e comunicava que não havia assunto. Fazia isso com tanto engenho e arte que também dava no mesmo: a crônica estava feita. Não tenho nem o engenho nem a arte de Rubem, mas tenho a varanda aberta sobre a Lagoa — posso não ver melhor, mas vejo mais. [...] Nelson Rodrigues não tinha problemas. Quando não havia assunto, **ele** inventava. Uma tarde, estacionei ilegalmente o Sinca-Chambord na calçada do jornal. **Ele** estava com o papel na máquina e provisoriamente sem assunto. Inventou que eu descia de um reluzente Rolls Royce com uma loura suspeita, mas equivalente à suntuosidade do carro. Um guarda nos deteve, eu tentei subornar a autoridade com dinheiro, o guarda não aceitou o dinheiro, preferiu a loura. Eu fiquei sem a multa e sem a mulher. Nelson não ficou sem assunto.

CONY, C. H. Folha de S. Paulo. 2 jan. 1998 (adaptado).

O autor lançou mão de recursos linguísticos que o auxiliaram na retomada de informações dadas sem repetir textualmente uma referência. Esses recursos pertencem ao uso da língua e ganham sentido nas práticas de linguagem. É o que acontece com os usos do pronome “ele” destacados no texto. Com essa estratégia, o autor conseguiu

- A confundir o leitor, que fica sem saber quando o texto se refere a um ou a outro cronista.
- B comparar Rubem Braga com Nelson Rodrigues, dando preferência ao primeiro.
- C referir-se a Rubem Braga e a Nelson Rodrigues usando igual recurso de articulação textual.
- D sugerir que os dois autores escrevem crônicas sobre assuntos semelhantes.
- E produzir um texto obscuro, cujas ambiguidades impedem a compreensão do leitor.

### QUESTÃO 112

Nascido em 1935, José Francisco Borges ou J. Borges, como prefere ser chamado, é um dos mais expressivos artistas populares do Brasil. Considerado por Ariano Suassuna o maior gravador popular do país, o artista foi um dos ilustradores do calendário da ONU do ano de 2002. Autodidata, J. Borges publicou seu primeiro cordel em 1964, intitulado *O Encontro de Dois Vaqueiros no Sertão de Petrolina*, seguido de *O Verdadeiro Aviso de Frei Damião Sobre os Castigos que Vêm*, cuja publicação deu início à sua carreira de gravador. Na década de 1970, artistas plásticos, intelectuais e *marchands* passaram a encomendar suas xilogravuras, o que levou as imagens a ganharem cada vez mais autonomia em relação ao cordel. Desde então, o itinerário do artista vem se fortalecendo pela transmissão dos conhecimentos da xilogravura às novas gerações de sua família, com quem mantém a Casa de Cultura Serra Negra, no sertão pernambucano.

Disponível em: <http://msn.onne.com.br>. Acesso em: 21 maio 2010.



BORGES, J. Iemanjá. Xilogravura.

A xilogravura é um meio de expressão de grande força artística e literária no Brasil, especialmente no Nordeste brasileiro, onde os artistas populares talham a madeira, transformando-a em verdadeiras obras de arte. Com total liberdade artística, hoje já conquistaram espaço entre os diversos setores culturais do país, retratando cenas

- A do seu próprio universo, revelando personagens com aparência humilde em vestes requintadas.
- B com temas de personagens do folclore popular, crenças e futilidades dos mais necessitados.
- C de conteúdo histórico e político do Nordeste brasileiro, com a intenção de valorizar as diferenças sociais.
- D das grandes cidades, com a preocupação de uma representação realista da figura humana nordestina.
- E com personagens fantasiosos, beatos e cangaceiros presentes nas crenças da população nordestina.

### QUESTÃO 113

Já reparei uma coisa: bola de futebol, seja nova, seja velha, é um ser muito compreensivo, que dança conforme a música: se está no Maracanã, numa decisão de título, ela rola e quiçá com um ar dramático, mantendo sempre a mesma pose adulta, esteja nos pés de Gérson ou nas mãos de um gandula. Em compensação, num racha de menino, ninguém é mais sapeca: ela corre para cá, corre para lá, quiçá no meio-fio, para de estalo no canteiro, lambe a canela de um, deixa-se espremer entre mil canelas, depois escapa, rolando, doida, pela calçada. Parece um bichinho.

NOGUEIRA, A. Peladas. Os melhores da crônica brasileira. Rio de Janeiro: José Olympio, 1977 (fragmento).

O texto expressa a visão do cronista sobre a bola de futebol. Entre as estratégias escolhidas para dar colorido a sua expressão, identifica-se, predominantemente, uma função da linguagem caracterizada pela intenção do autor em

- A manifestar o seu sentimento em relação ao objeto bola.
- B buscar influenciar o comportamento dos adeptos do futebol.
- C descrever objetivamente uma determinada realidade.
- D explicar o significado da bola e as regras para seu uso.
- E ativar e manter o contato dialógico com o leitor.

QUESTÃO 114

Mudança

Na planície avermelhada os juazeiros alargavam duas manchas verdes. Os infelizes tinham caminhado o dia inteiro, estavam cansados e famintos. Ordinariamente andavam pouco, mas como haviam repousado bastante na areia do rio seco, a viagem progredira bem três léguas. Fazia horas que procuravam uma sombra. A folhagem dos juazeiros apareceu longe, através dos galhos pelados da catinga rala.

Arrastaram-se para lá, devagar, sinhá Vitória com o filho mais novo escanchado no quarto e o baú de folha na cabeça, Fabiano sombrio, cambaio. As manchas dos juazeiros tornaram a aparecer, Fabiano aligeirou o passo, esqueceu a fome, a canseira e os ferimentos. Deixaram a margem do rio, acompanharam a cerca, subiram uma ladeira, chegaram aos juazeiros. Fazia tempo que não viam sombra.

RAMOS, G. *Vidas secas*. Rio de Janeiro: Record, 2008 (fragmento).

Valendo-se de uma narrativa que mantém o distanciamento na abordagem da realidade social em questão, o texto expõe a condição de extrema carência dos personagens acudados pela miséria.

O recurso utilizado na construção dessa passagem, o qual comprova a postura distanciada do narrador, é a

- A caracterização pitoresca da paisagem natural.
- B descrição equilibrada entre os referentes físicos e psicológicos dos personagens.
- C narração marcada pela sobriedade lexical e sequência temporal linear.
- D caricatura dos personagens, compatível com o aspecto degradado que apresentam.
- E metaforização do espaço sertanejo, alinhada com o projeto de crítica social.

QUESTÃO 115

Uma luz na evolução

*Dois fósseis descobertos na África do Sul, dotados de inusitada combinação de características arcaicas e modernas, podem ser ancestrais diretos do homem*

Os últimos quinze dias foram excepcionais para o estudo das origens do homem. No fim de março, uma falange fossilizada encontrada na Sibéria revelou uma espécie inteiramente nova de homínideo que existia há 50 000 anos. Na semana passada, cientistas da Universidade de Witwatersrand, na África do Sul, anunciaram uma descoberta similar. São duas as ossadas bastante completas — a de um menino de 12 anos e a de uma mulher de 30 — encontradas na caverna Malapa, a 40 quilômetros de Johannesburgo. Devido à abundância de fósseis, a região é conhecida como Berço da Humanidade.

Veja. Abr. 2010 (adaptado).

Sabe-se que as funções da linguagem são reconhecidas por meio de recursos utilizados segundo a produção do autor, que, nesse texto, centra seu objetivo

- A na linguagem utilizada, ao enfatizar a maneira como o texto foi escrito, sua estrutura e organização.
- B em si mesmo, ao focar suas emoções e sentimentos diante das descobertas feitas.
- C no leitor do texto, ao tentar convencê-lo a praticar uma ação, após sua leitura.
- D no canal de comunicação utilizado, ao querer certificar-se do entendimento do leitor.
- E no conteúdo da mensagem, ao transmitir uma informação ao leitor.

QUESTÃO 116

O nascimento da crônica

Há um meio certo de começar a crônica por uma trivialidade. É dizer: Que calor! Que desenfreado calor! Diz-se isto, agitando as pontas do lenço, bufando como um touro, ou simplesmente sacudindo a sobrecasaca. Resvala-se do calor aos fenômenos atmosféricos, fazem-se algumas conjeturas acerca do sol e da lua, outras sobre a febre amarela, manda-se um suspiro a Petrópolis, e *La glace est rompue*; está começada a crônica.

Mas, leitor amigo, esse meio é mais velho ainda do que as crônicas, que apenas datam de Esdras. Antes de Esdras, antes de Moisés, antes de Abraão, Isaque e Jacó, antes mesmo de Noé, houve calor e crônicas. No paraíso é provável, é certo que o calor era mediano, e não é prova do contrário o fato de Adão andar nu. Adão andava nu por duas razões, uma capital e outra provincial. A primeira é que não havia alfaiates, não havia sequer casimiras; a segunda é que, ainda havendo-os, Adão andava baldo ao naipe. Digo que esta razão é provincial, porque as nossas províncias estão nas circunstâncias do primeiro homem.

ASSIS, M. In: SANTOS, J. F. *As cem melhores crônicas brasileiras*. Rio de Janeiro: Objetiva, 2007 (fragmento).

Um dos traços fundamentais da vasta obra literária de Machado de Assis reside na preocupação com a expressão e com a técnica de composição. Em *O nascimento da crônica*, Machado permite ao leitor entrever um escritor ciente das características da crônica, como

- A texto breve, diálogo com o leitor e registro pessoal de fatos do cotidiano.
- B síntese de um assunto, linguagem denotativa, exposição sucinta.
- C linguagem literária, narrativa curta e conflitos internos.
- D texto ficcional curto, linguagem subjetiva e criação de tensões.
- E priorização da informação, linguagem impessoal e resumo de um fato.

**QUESTÃO 117**

Um asteroide de cerca de um mil metros de diâmetro, viajando a 288 mil quilômetros por hora, passou a uma distância insignificante — em termos cósmicos — da Terra, pouco mais do dobro da distância que nos separa da Lua. Segundo os cálculos matemáticos, o asteroide cruzou a órbita da Terra e somente não colidiu porque ela não estava naquele ponto de interseção. Se ele tivesse sido capturado pelo campo gravitacional do nosso planeta e colidido, o impacto equivaleria a 40 bilhões de toneladas de TNT ou o equivalente à explosão de 40 mil bombas de hidrogênio, conforme calcularam os computadores operados pelos astrônomos do programa de Exploração do Sistema Solar da Nasa; se caísse no continente, abriria uma cratera de cinco quilômetros, no mínimo, e destruiria tudo o que houvesse num raio de milhares de outros; se desabasse no oceano, provocaria maremotos que devastariam imensas regiões costeiras. Enfim, uma visão do Apocalipse.

Disponível em: <http://bdjur.stj.jus.br>. Acesso em: 23 abr. 2010 (fragmento).

Com base na leitura do fragmento, percebe-se que o texto foi construído com o objetivo de

- A** destacar o seu processo de construção, dando enfoque, principalmente, a recursos expressivos.
- B** manter um canal de comunicação entre leitor e autor por meio de mensagens subjetivas.
- C** transmitir informações, fazendo referência a acontecimentos observados no mundo exterior.
- D** persuadir o leitor, levando-o a tomar medidas para evitar os problemas ambientais.
- E** transmitir os receios e reflexões do autor no que se refere ao fim do mundo.

**QUESTÃO 118**



Disponível em: <http://www.clubedamafalda.blogspot.com>. Acesso em: 24 set. 2007.

A língua é um patrimônio cultural indispensável para a preservação da memória e da identidade de um povo. Nesse contexto, percebe-se, na tirinha, uma crítica

- A** à falta de assistência familiar no que se refere à educação escolar dos filhos.
- B** à língua em si, cheia de regras e normas gramaticais desnecessárias.
- C** à escrita dos livros em linguagem muito rebuscada, o que dificulta o entendimento dos leitores.
- D** à influência dos estrangeirismos na língua, em especial, daqueles provenientes do inglês.
- E** ao ensino da língua que, devido à metodologia utilizada, desestimula os alunos.

**QUESTÃO 119**

Na sociedade moderna, a maioria das relações humanas é medida e mediada pelo dinheiro. O dinheiro que você tem define onde você mora, o que come, como se veste e se desloca, sua educação e sua saúde. Por isso, ricos e pobres, materialistas e desprendidos, avarentos e perdulários, portadores ou não de cartões de crédito, todos têm de saber lidar com o dinheiro, pois ele permeia todos os aspectos da vida.

Vida simples. Ed. 74, dez. 2008 (adaptado).

O texto trata de um tema relevante para o cotidiano de todas as pessoas: a relação pessoal com o dinheiro. A enumeração apresentada no último período demonstra a

- A** preocupação com as classes menos favorecidas.
- B** importância do desprendimento em relação ao dinheiro.
- C** igualdade diante da relação pessoal com o dinheiro.
- D** relevância dos cartões de crédito para as pessoas atualmente.
- E** inquietação em relação ao materialismo.

**QUESTÃO 120**

**História do contato entre línguas no Brasil**

No Brasil, o contato dos colonizadores portugueses com milhões de falantes de mais de mil línguas autóctones e de cerca de duzentas línguas que vieram na boca de cerca de quatro milhões de africanos trazidos para o país como escravos é, sem sombra de dúvida, o principal parâmetro histórico para a contextualização das mudanças linguísticas que afetaram o português brasileiro. E processos como esses não devem ser levados em conta apenas para a compreensão das diferenças entre as variedades linguísticas nacionais. O próprio mapeamento das variedades linguísticas contemporâneas do português europeu e, sobretudo, do português brasileiro, tanto no plano diatópico quanto no plano diastrático, depende crucialmente de uma apurada compreensão do processo histórico de sua formação.

LUCCCHESI, D.; BAXTER, A.; RIBEIRO, I. (orgs.). *O português afro-brasileiro*. Salvador: EdUFBA, 2009 (adaptado).

**Glossário:**

Autóctone: nativo de uma região.

Diatópico: referente à variação de uma mesma língua no plano regional (país, estado, cidade etc.).

Diastrático: referente à variação de uma mesma língua em função das diversas classes sociais.

Do ponto de vista histórico, as mudanças linguísticas que afetaram o português do Brasil têm sua origem no contato dos colonizadores com inúmeras línguas indígenas e africanas. Considerando as reflexões apresentadas no texto, verifica-se que esse processo, iniciado no começo da colonização, teve como resultado

- A** a aceitação da escravidão, em que seres humanos foram reduzidos à condição de objeto por seus senhores.
- B** a constituição do patrimônio linguístico, uma vez que representa a identidade nacional do povo brasileiro.
- C** o isolamento de um número enorme de índios durante todo o período da colonização.
- D** a separação entre pessoas que desfrutavam bens e outras que não tinham acesso aos bens de consumo.
- E** a supremacia dos colonizadores portugueses, que muito se empenharam para conquistar os indígenas.

**QUESTÃO 121**

Foi sempre um gaúcho quebralhão, e despilchado sempre, por ser muito de mãos abertas. Se numa mesa de primeira ganhava uma ponchada de balastracas, reunia a gurizada da casa, fazia pi! pi! pi! como pra galinhas e semeava as moedas, rindo-se do formigueiro que a miuçada formava, catando as pratas no terreiro. Gostava de sentar um laçoço num cachorro, mas desses laçoços de apanhar da palheta à virilha, e puxado a valer, tanto que o bicho que o tomava, de tanto sentir dor, e lombeando-se, depois de disparar um pouco é que gritava, num caim! caim! caim! de desespero.

LOPES NETO, J. S. Contrabandista. In: SALES, H. (org). *Antologia de contos brasileiros*. Rio de Janeiro: Ediouro, 2001 (adaptado).

A língua falada no Brasil apresenta vasta diversidade, que se manifesta de acordo com o lugar, a faixa etária, a classe social, entre outros elementos. No fragmento do texto literário, a variação linguística destaca-se

- A** por inovar na organização das estruturas sintáticas.
- B** pelo uso de vocabulário marcadamente regionalista.
- C** por distinguir, no diálogo, a origem social dos falantes.
- D** por adotar uma grafia típica do padrão culto, na escrita.
- E** pelo entrelaçamento de falas de crianças e adultos.

**QUESTÃO 122**



**NÃO DIRIGIR QUANDO BEBER. ESSE É O CÓDIGO.**  
CÓDIGO DE TRÂNSITO BRASILEIRO

Disponível em: <http://www.mt.gov.br>. Acesso em: 28 jun. 2011 (adaptado).

O texto publicitário tem como objetivo principal o convencimento do seu público-leitor e, para alcançar esse objetivo, utiliza diferentes tipos de linguagem. Na peça publicitária, que foi divulgada na ocasião da aprovação da Lei Seca, os elementos verbais e não verbais foram usados a fim de levar a população a

- A** reduzir gradativamente a ingestão de álcool antes de dirigir.
- B** associar o consumo de bebidas à ideia de morte na juventude.
- C** prevenir-se quanto aos efeitos do álcool no organismo humano.
- D** incompatibilizar as bebidas alcoólicas com a direção de automóveis.
- E** reconhecer que tipo de bebida alcoólica deve ser evitada no trânsito.



\* C I N Z 2 5 D O M 1 5 \*

QUESTÃO 123

TEXTO I

Brasil africano

De várias partes da África, veio a metade dos nossos antepassados no período da escravidão, entre os séculos XVII e XIX. As muitas línguas que falavam mudaram o português existente no Brasil. Da estética à culinária, dos costumes à religião, as influências também foram numerosas e permanecem. Os estudos africanos no país remontam ao começo do século XX, mas há, ainda, muito para ser descoberto e compreendido dessas tantas trocas culturais.

TEXTO II



Cais em Salvador, em foto de Gaensly & Lindermann, século XX. Revista Biblioteca Entre Livros: Vozes da África. São Paulo: Ediouro.

Ao relacionar-se a temática dos Textos I e II, sobre a influência africana no Brasil, constata-se que

- A fazem alusão ao fato de que a contribuição do povo africano para a cultura brasileira não é comprovada.
- B revelam que os estudos referentes à contribuição do povo africano na formação do Brasil é incipiente.
- C demonstram que a construção da identidade nacional é marcada pela presença da cultura africana.
- D informam que os negros foram os responsáveis pela formação cultural do nosso país.
- E remetem à ideia de que essa influência inexistiu no âmbito linguístico.

QUESTÃO 124



EU SEI SENTAR, DEITAR E ROLAR.  
SÓ NÃO SEI COMO VIM PARAR AQUI.

Adotar  
é tudo de bom

Veja. Nº 14, 7 abr. 2010.

As modernas técnicas de comunicação estão associadas aos impactos da mensagem. Nesse texto, a intenção é

- A alertar para os perigos dos animais domésticos.
- B mostrar os cuidados com os cães de estimação.
- C registrar um protesto contra a prisão de animais.
- D sugerir brincadeiras de crianças com os cães.
- E valorizar a adoção como saída para dramas sociais.

QUESTÃO 125

Diz-se, em termos gerais, que é preciso “falar a mesma língua”: o português, por exemplo, que é a língua que utilizamos. Mas trata-se de uma língua portuguesa ou de várias línguas portuguesas? O português da Bahia é o mesmo português do Rio Grande do Sul? Não está cada um deles sujeito a influências diferentes — linguísticas, climáticas, ambientais? O português do médico é igual ao do seu cliente? O ambiente social e o cultural não determinam a língua? Estas questões levam à constatação de que existem níveis de linguagem. O vocabulário, a sintaxe e mesmo a pronúncia variam segundo esses níveis.

VANOYE, F. Usos da linguagem. São Paulo: Martins Fontes, 1981 (fragmento).

Na fala e na escrita, são observadas variações de uso, motivadas pela classe social do indivíduo, por sua região, por seu grau de escolaridade, pelo gênero, pela intencionalidade do ato comunicativo, ou seja, pelas situações linguísticas e sociais em que a linguagem é empregada. A variedade linguística adequada à situação específica de uso social está expressa

- A na fala de um professor ao iniciar a aula no ensino superior: “Fala galerinha do mal! Hoje vamos estudar um negócio muito importante”.
- B na leitura de um discurso de uma autoridade pública na inauguração de um estabelecimento educacional: “Senhores cidadãos do Brasil, com alegria, inauguramos mais uma escola para a melhor educação de nosso país”.
- C no memorando da diretora da escola ao responsável por um aluno: “Responsável pelo aluno Henrique, dê uma chegadinha na diretoria da escola para saber o que o seu filhinho anda fazendo de besteira”.
- D na fala de uma criança, na tentativa de convencer a mãe a entregar-lhe a mesada: “Mãe, assim não dá para ser feliz! Dá pra liberar minha mesada? Prometo que só vou tirar notão nas próximas provas”.
- E na fala de uma mãe em resposta ao filho que solicitou a mesada: “Caro descendente, por obséquio, antecipe a prestação de suas contas, a fim de fazer jus ao solicitado”.

QUESTÃO 126

ESTE BANCO QUER QUE VOCÊ FAÇA UM INVESTIMENTO DIFERENTE.

INVISTA EM TORNEIRAS FECHADAS.




INVISTA EM BANHOS MENOS DEMORADOS.

INVISTA EM DESCARGAS MAIS RÁPIDAS.

INVISTA EM NÃO LAVAR A CALÇADA.

NÃO GASTE ÁGUA, INVISTA. **CHEGOU O BANCO ÁGUA.**

AQUI, A MOEDA SÃO LITROS DE ÁGUA.

 = 
  = 
 

VOCÊ ECONOMIZA ÁGUA = ACUMULA PONTOS NO BANCO = GANHA DESCONTOS EM COMPRAS

Sim criamos um banco. Um banco que vai premiar seus clientes pela economia de água. É o Banco Água. Nesse banco você terá uma conta-corrente e nela poderá depositar cada litro de água economizado.

Esse saldo de economia de água da sua conta será revertido em pontos que poderão ser trocados por descontos em sites de compras. Ou seja, você economiza água no banho para economizar dinheiro na hora de comprar um produto ou serviço.

Saiba como abrir uma conta pelo nosso site. Porque não há lugar melhor que um banco para cuidar de algo tão valioso.

**ABRA HOJE MESMO UMA CONTA.**

Veja. 27 abr. 2011 (adaptado).

Os textos pertencem a gêneros em razão de configurações e de propósitos comunicativos específicos, os quais revelam sua função social. O texto em análise apresenta-se como

- A** uma peça publicitária, uma vez que promove o produto de uma instituição financeira.
- B** um panfleto, porque visa a orientar a população para desenvolver práticas ecológicas.
- C** um manifesto de ambientalistas, já que denuncia o desperdício de água pela população.
- D** uma reportagem, pois busca conscientizar a população para a necessidade de poupar água.
- E** uma notícia, pois informa a criação de um banco para cuidar de recursos hídricos.

QUESTÃO 127

Nas sociedades urbanas, desde que nascemos, estamos imersos em um ambiente dominado pela tecnologia da informação e da comunicação e por produtos tecnológicos como o rádio, a TV, o cinema e a internet, com os quais criamos redes sociais via *web*, MSN, *sites* de relacionamento e Orkut. Utilizamos a tecnologia tanto para entrar em contato com amigos, quanto para o trabalho e para operações comerciais. Enquanto circulamos pelas cidades, nossos sentidos são tomados por informações medidas pela tecnologia, estampadas em *outdoors*, cartazes e bancas de jornais.

De acordo com o texto, a vida moderna é profundamente influenciada pela tecnologia da informação e da comunicação. Com base nessa assertiva, conclui-se que as pessoas

- A** passaram a se relacionar com os amigos exclusivamente por meio da tecnologia de informação e comunicação.
- B** se encontram imersas em um mundo que promove um rápido fluxo de informação, o que afeta suas relações sociais.
- C** perdem a capacidade de se comunicar de outras maneiras, ficando limitadas ao ambiente virtual em suas relações sociais.
- D** se familiarizam completamente com as tecnologias na vida adulta, quando passam a consumir mais produtos tecnológicos.
- E** dão mais importância ao MSN, aos *sites* de relacionamento e ao Orkut que a outras maneiras de se informarem e de se comunicarem.



QUESTÃO 128

Texto I

# Gente fina

Bruno Drummond



DRUMMOND, B. Revista O Globo. N° 248, 26 abr. 2009.

Texto II

São 68 milhões num universo de 190 milhões de brasileiros conectados nas redes virtuais. O *e-mail*, irmão moderno da carta, ainda é uma ferramenta imprescindível de comunicação, mas já começa a dar espaço para ferramentas mais ágeis de interação, como MSN, Orkut, Facebook, Twitter e *blogs*.

FERREIRA JÚNIOR, H. (adaptado).

Da leitura dos dois textos, depreende-se que a internet tem se expandido muito nos últimos anos. Apesar disso, a atitude do rapaz no Texto I revela a

- A constatação da importância do acesso à internet para a comunicação com outras pessoas.
- B opinião de quem necessita das ferramentas da internet para realizar novas conquistas.
- C demonstração de uma postura resistente à interferência das tecnologias na comunicação.
- D adequação dos jovens às redes sociais como Twitter, Facebook, MSN, Orkut, *blog* etc.
- E aceitação das redes sociais pela internet como veículo de relacionamentos pessoais.

QUESTÃO 129

Pirai, Pirai, Pirai  
Pirai bandalargou-se um pouquinho  
Pirai infoviabilizou  
Os ares do município inteirinho  
Com certeza a medida provocou  
Um certo vento de redemoinho

Diabo de menino agora quer  
Um *ipod* e um computador novinho  
Certo é que o sertão quer virar mar  
Certo é que o sertão quer navegar  
No micro do menino internetinho

GIL, G. Banda larga cordel. *Geleia Geral*. 2008.  
Disponível em: <http://www.gilbertogil.com.br>. Acesso em: 24 abr. 2010 (fragmento).

No texto, encontram-se as expressões “bandalargou-se”, “infoviabilizou” e “internetinho”, que indicam a influência da tecnologia digital na língua. Em relação à dinamicidade da língua no processo de comunicação, essas expressões representam

- A a expansão vocabular influenciada pelo uso cotidiano de ferramentas da cultura digital.
- B o desconhecimento das regras de formação de palavras na língua.
- C a derivação de palavras sob a influência de falares arcaicos.
- D a incorporação de palavras estrangeiras sem adaptações à língua portuguesa.
- E a apropriação de conceitos ultrapassados disseminados pelas influências estrangeiras.

**QUESTÃO 130**

**Sacolas**

**Por que optar pelas duráveis,  
como faziam nossos avós?**

O mundo produz sacolas plásticas desde a década de 1950. Como não se degradam facilmente na natureza, grande parte delas ainda vão continuar por mais de 300 anos em algum lugar do planeta.

Calcula-se que até 1 trilhão de sacolas plásticas são produzidas anualmente em todo mundo. O Brasil produz mais de 12 bilhões todos os anos, e 80% delas são utilizadas uma única vez.

Sacolas plásticas são leves e voam ao vento. Por isso, elas entopem esgotos e bueiros, causando enchentes. São encontradas até no estômago de tartarugas marinhas, baleias, focas e golfinhos mortos por sufocamento.

Várias redes de supermercados do Brasil e do mundo já estão sugerindo o uso de caixas de papelão e colocando à venda sacolas de pano ou de plástico duráveis para transportar as mercadorias.


Sacolas plásticas descartáveis são gratuitas para os consumidores, mas têm um custo incalculável para o meio ambiente.

Anúncio publicitário veiculado na revista *Veja*. N° 27, 8 jul. 2009.

Os argumentos utilizados no texto indicam que seu público-alvo é o consumidor e seu objetivo é estimular

- A** o abandono do uso de sacolas de plástico.
- B** a compra de sacolas de pano em supermercados.
- C** o engajamento em campanhas de consumo consciente.
- D** a divulgação dos perigos das sacolas plásticas para os animais marinhos.
- E** a reutilização das sacolas de plástico.

**QUESTÃO 131**



Disponível em: <http://www.wwf.org.br>. Acesso em: 27 abr. 2010 (adaptado).

A relação entre texto e imagem potencializa a força de persuasão desse anúncio, que apresenta como principal objetivo

- A** informar as pessoas de que elas podem perder 70% do seu corpo.
- B** confrontar opiniões acerca do descaso para com o meio ambiente.
- C** enumerar fatos que possam trazer mais informações ao contexto.
- D** conscientizar de que o consumismo de água agride o planeta.
- E** sensibilizar quanto à situação dos que vivem sem água em sacrifício pelo planeta.

**QUESTÃO 132**



BAGNO, M. Não é errado falar assim!: em defesa do português brasileiro. São Paulo: Parábola, 2009 (adaptado).

A situação social em que o falante está inserido é determinante para o uso da língua. Dessa forma, cabe ao usuário adequar-se a cada contexto, a seus condicionantes: formalidade/informalidade, intimidade/hierarquias etc. Considerando-se a situação comunicativa, há, na charge,

- A** displicência de ambos os falantes, já que desconsideram a situação em que estão inseridos e usam um registro inadequado ao contexto.
- B** dualidade de registros entre os dois falantes, já que ambos usam regras distintas quanto à concordância.
- C** inobservância do personagem vestido de preto quanto à informalidade da situação e o consequente uso de um registro bastante formal.
- D** inadequação, do ponto de vista da norma padrão, do registro de um e de outro falante.
- E** consenso entre os registros dos dois falantes no tocante à norma padrão, já que ambos usam as mesmas regras de regência.



\* C I N Z 2 5 D O M 1 9 \*

QUESTÃO 133

Árvore da Língua

Ao longo dos três andares, uma instalação de 16 metros de altura mostra palavras com mais de 6 mil anos, projetadas em folhas da Árvore da Língua. Ela faz os significados dançarem para falar da evolução do indo-europeu ao latim e, dele, ao português. Criada pelo designer Rafic Farah, a escultura é pontuada por um mantra de Arnaldo Antunes, com os termos "língua" e "palavra" cantados em vários idiomas.

SCARDOVELI, E. *Revista Língua Portuguesa*. Ano II, nº 6. São Paulo: Segmento, 2006.

O texto apresentado pertence ao domínio jornalístico. Sua finalidade e sua composição estrutural caracterizam-no como

- A) quadro informativo, pois apresenta dados sobre um objeto.
- B) notícia, já que leva informação atual a um público específico.
- C) reportagem, porque enfoca um assunto de forma abrangente.
- D) legenda, porque descreve elementos e retoma uma informação.
- E) entrevista, pois apresenta uma opinião sobre o local inaugurado.

QUESTÃO 134

Dados Internacionais de Catalogação na Publicação (CPI)  
Biblioteca Goiandira Ayres de Couto

Departamento Estadual de Trânsito de Goiás.  
Manual de primeiros socorros no trânsito / DETRAN-GO;  
(org.) Clives Pereira Sanches. Goiânia: DETRAN-GO, 2005  
25 p. ; il.

1. Primeiros Socorros. 2. Trânsito. 3. Acidentes. 4.  
Emergências. I. Sanches, Clives Pereira. II. Título.

CDU: 351.88:656.11(81)

Disponível em: <http://www.scg.goias.gov.br>. Acesso em: 28 jul. 2010.

O exemplo de gênero textual citado é largamente utilizado em bibliotecas. Suas características o definem como pertencente ao gênero

- A) aviso, por instruir o leitor a identificar o autor.
- B) ficha, que é utilizada para identificar uma obra.
- C) formulário, que contém informações sobre o autor.
- D) lista, por relacionar os assuntos da obra.
- E) manual, que define os passos da busca.

QUESTÃO 135



Luscar. Cartum.

Nesse cartum, o artista lança mão do recurso da intertextualidade para construir o texto. Esse recurso se constitui pela presença de informações que remetem a outros textos. O emprego desse recurso no cartum revela uma crítica

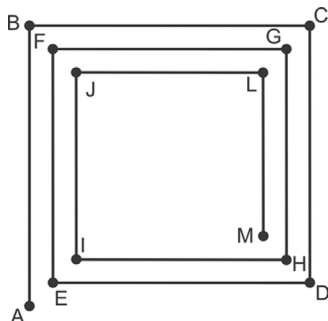
- A) à qualidade da informação prestada pela mídia brasileira.
- B) aos altos níveis de violência no país veiculados pela mídia.
- C) à imparcialidade dos telejornais na veiculação de informações.
- D) à ausência de critérios para divulgação de notícias em telejornais.
- E) ao incentivo da mídia a atos violentos na sociedade.

## MATEMÁTICA E SUAS TECNOLOGIAS

### Questões de 136 a 180

#### QUESTÃO 136

Considere que o esquema represente uma trilha poligonal que Carlos deve percorrer, partindo do ponto A até chegar ao ponto M.



Sabendo que o segmento AB possui 11 m de comprimento e, a partir desse, o comprimento de cada segmento seguinte possui um metro a menos que o comprimento do segmento anterior, quantos metros Carlos terá caminhado ao percorrer toda a trilha?

- A 176
- B 121
- C 111
- D 66
- E 65

#### QUESTÃO 137

Uma campanha de vacinação contra um tipo específico de vírus, que causa uma gripe com alto índice de mortalidade, deverá ser realizada em uma cidade que tem uma população de 186 000 habitantes. A Secretaria de Saúde do município tem os dados que evidenciam os grupos de pessoas mais afetadas pela doença e pretende estabelecer como critério de prioridade de vacinação as porcentagens de casos de morte, em decorrência da contaminação pelo vírus, em ordem decrescente. Observe os dados na tabela:

**Número de pessoas que foram contaminadas pelo vírus, curadas e mortas, discriminadas por grupos característicos**

Número de pessoas	Contaminadas pelo vírus	Curadas	Mortas
Recém-nascidos	280	140	140
Mulheres gestantes	1 020	765	255
Crianças com idade entre 3 e 10 anos	2 340	819	1 521
Idosos com idade entre 60 e 80 anos	3 500	2 520	980
Pessoas com alto nível de obesidade	800	560	240

Tomando como base os dados da tabela, os especialistas em saúde pública do município podem verificar que o grupo com maior prioridade de vacinação é o de

- A crianças entre 3 e 10 anos, porque a porcentagem de mortos é a de maior valor em relação aos outros grupos.
- B idosos com idade entre 60 e 80 anos, pois foi o grupo que registrou o maior número de casos de pessoas contaminadas pelo vírus.
- C mulheres gestantes, porque a porcentagem de curadas é de 75%.
- D recém-nascidos, porque eles têm uma maior expectativa de vida.
- E pessoas com alto nível de obesidade, pois são do grupo com maior risco de doenças.

#### QUESTÃO 138

O Sr. José compra água do vizinho para irrigar sua plantação, situada em um terreno na forma de um quadrado de 30 m de lado. Ele paga R\$ 100,00 mensais pela água que consome. A água é levada a seu terreno através de tubos em forma de cilindros de  $\frac{1}{2}$  polegada de diâmetro.

Visando expandir sua plantação, o Sr. José adquire um terreno com o mesmo formato que o seu, passando a possuir um terreno em forma retangular, com 30 m de comprimento e 60 m de largura.

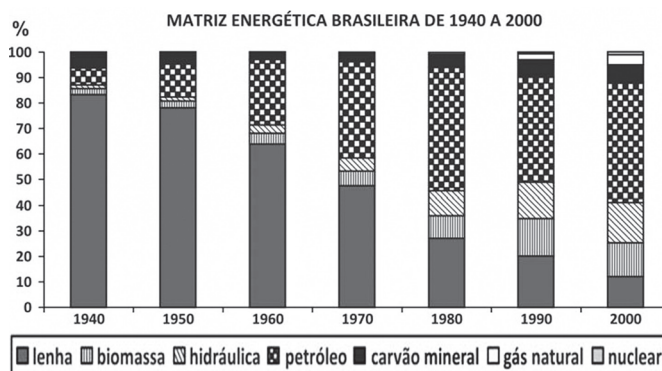
Quanto ele deve pagar a seu vizinho por mês, pela água que passará a consumir?

- A R\$ 100,00
- B R\$ 180,00
- C R\$ 200,00
- D R\$ 240,00
- E R\$ 300,00

#### QUESTÃO 139

Durante o século XX, a principal fonte primária de geração de energia, isto é, a principal fonte de energia do Brasil, foi alterada.

Veja no gráfico, em termos percentuais, a quantidade de energia gerada a partir de cada uma das fontes primárias:



Almanaque Abril 2010. São Paulo: Abril, 2010.

Com base no gráfico, essa troca da principal fonte primária de geração de energia ocorreu entre quais fontes?

- A Do carvão para a energia nuclear.
- B Do carvão para o petróleo.
- C Da lenha para a energia nuclear.
- D Da lenha para o petróleo.
- E Da lenha para o carvão.

**QUESTÃO 140**

Um aventureiro chama a atenção para o impacto do plástico no meio ambiente, atravessando a maior concentração de lixo do mundo em um veleiro feito totalmente de recipientes recicláveis. O barco flutua graças a 12 mil garrafas plásticas.

No Brasil, a produção mensal de garrafas plásticas é de 9 bilhões de unidades, sendo que 47% dessas garrafas são reaproveitadas e o restante vai para o lixo.

Época. São Paulo: Globo, n. 619, 29 mar. 2010 (adaptado).

Quantos barcos como esse é possível construir com as garrafas que vão para o lixo no Brasil?

- A 352 500.
- B 397 500.
- C 750 000.
- D 35 250 000.
- E 39 750 000.

**QUESTÃO 141**

Os alunos da 3ª série do ensino médio da escola Z fizeram dois simulados de matemática, cada um com 8 questões de múltipla escolha, no valor de 0,5 ponto cada. Há apenas uma alternativa correta por questão. O quadro mostra o percentual de alunos que acertaram cada questão, em cada um dos simulados.

	Q1	Q2	Q3	Q4	Q5	Q6	Q7	Q8
<b>SIMULADO A</b>	60%	50%	80%	30%	20%	60%	30%	10%
<b>SIMULADO B</b>	80%	30%	60%	30%	40%	90%	10%	10%

Sabendo-se que o número de alunos que fizeram os simulados foi o mesmo, a média geral da turma, considerando as notas dos dois simulados, mais aproximada, é de,

- A 7,4.
- B 3,7.
- C 3,4.
- D 1,9.
- E 1,7.

**QUESTÃO 142**

Atualmente existem muitos aplicativos de fazendas virtuais que, apesar de críticas, possuem uma enorme quantidade de usuários. Embora apresentem algumas diferenças de funcionamento, as fazendas virtuais possuem a mesma concepção: cada vez que o usuário cuida de sua fazenda ou da de seus amigos, ganha pontos, e, quanto mais pontos acumula, maior é seu nível de experiência.

Em um aplicativo de fazenda virtual, o usuário precisa de 1 000 pontos para atingir o nível 1. Acumulando mais 1 200 pontos, atinge o nível 2; acumulando mais 1 400 pontos, atinge o nível 3 e assim por diante, sempre com esse padrão.

Um usuário que está no nível 15 de experiência acumulou

- A 3 800 pontos.
- B 15 200 pontos.
- C 32 200 pontos.
- D 35 000 pontos.
- E 36 000 pontos.

**QUESTÃO 143**

Um programador visual deseja modificar uma imagem, aumentando seu comprimento e mantendo sua largura. As figuras 1 e 2 representam, respectivamente, a imagem original e a transformada pela duplicação do comprimento.

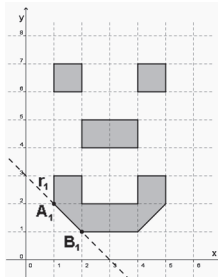


Figura 1

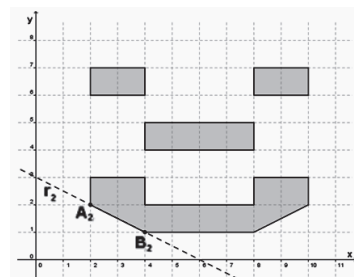


Figura 2

Para modelar todas as possibilidades de transformação no comprimento dessa imagem, o programador precisa descobrir os padrões de todas as retas que contêm os segmentos que contornam os olhos, o nariz e a boca e, em seguida, elaborar o programa.

No exemplo anterior, o segmento  $A_1B_1$  da figura 1, contido na reta  $r_1$ , transformou-se no segmento  $A_2B_2$  da figura 2, contido na reta  $r_2$ .

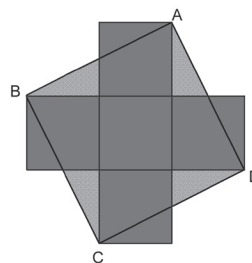
Suponha que, mantendo constante a largura da imagem, seu comprimento seja multiplicado por  $n$ , sendo  $n$  um número inteiro e positivo, e que, dessa forma, a reta  $r_1$  sofra as mesmas transformações. Nessas condições, o segmento  $A_nB_n$  estará contido na reta  $r_n$ .

A equação algébrica que descreve  $r_n$ , no plano cartesiano, é

- A  $x + ny = 3n$ .
- B  $x - ny = -n$ .
- C  $x - ny = 3n$ .
- D  $nx + ny = 3n$ .
- E  $nx + 2ny = 6n$ .

**QUESTÃO 144**

A figura que segue é formada por 5 quadrados congruentes, cuja medida do lado é  $L$ , e um quadrado  $ABCD$  com vértices em um único vértice de quatro dos cinco quadrados.



A área do quadrado  $ABCD$  é equivalente à área de um retângulo de lados

- A  $2L$  e  $3L$ .
- B  $3L$  e  $1L$ .
- C  $3L$  e  $3L$ .
- D  $4L$  e  $1L$ .
- E  $5L$  e  $1L$ .

### QUESTÃO 145

Pedro ganhou R\$ 360 000,00 em uma loteria federal e resolveu dividir integralmente o prêmio entre os seus três filhos, Ana, Renato e Carlos, de forma que cada um receba uma quantia que seja inversamente proporcional às suas idades.

Sabendo que Ana tem 4 anos, Renato, 5 anos e Carlos, 20 anos, eles receberão, respectivamente,

- A R\$ 54 000,00; R\$ 216 000,00 e R\$ 90 000,00.
- B R\$ 90 000,00; R\$ 54 000,00 e R\$ 216 000,00.
- C R\$ 216 000,00; R\$ 90 000,00 e R\$ 54 000,00.
- D R\$ 180 000,00; R\$ 144 000,00 e R\$ 36 000,00.
- E R\$ 180 000,00; R\$ 120 000,00 e R\$ 60 000,00.

### QUESTÃO 146

Uma empresa responsável por produzir arranjos de parafina recebeu uma encomenda de arranjos em formato de cone reto. Porém, teve dificuldades em receber de seu fornecedor o molde a ser utilizado e negociou com a pessoa que fez a encomenda o uso de arranjos na forma de um prisma reto, com base quadrada de dimensões 5 cm × 5 cm.

Considerando que o arranjo na forma de cone utilizava um volume de 500 mL, qual deverá ser a altura, em cm, desse prisma para que a empresa gaste a mesma quantidade de parafina utilizada no cone?

- A 8
- B 14
- C 20
- D 60
- E 200

### QUESTÃO 147

Por falta de tratamentos simples, mais de 1 bilhão de pessoas pobres no mundo acordam doentes todos os dias. Entre essas doenças está a ancilostomose, que aflige 600 milhões de pessoas e causa anemia severa e desnutrição proteica. Para fornecer tratamento a essas pessoas, estima-se um gasto anual de cinquenta centavos de dólar por paciente.

HORTEZ, P. J. Um plano para derrotar Doenças Tropicais Negligenciadas. *Scientific American Brasil*. Ano 8, nº 33 (adaptado).

Uma organização está disposta a lançar uma campanha internacional a fim de obter recursos suficientes para cobrir o tratamento das pessoas com ancilostomose por um ano. Segundo seu planejamento, estima-se um valor médio de US\$ 3,00 por doador.

De acordo com o planejamento dessa organização, para arrecadar o total de recursos necessários para cobrir o tratamento das pessoas com ancilostomose, por um ano, o número mínimo de contribuintes necessários é de

- A 200 milhões.
- B 120 milhões.
- C 36 milhões.
- D 40 milhões.
- E 100 milhões.

### QUESTÃO 148

Uma agência de viagens de São Paulo (SP) está organizando um pacote turístico com destino à cidade de Foz do Iguaçu (PR) e fretou um avião com 120 lugares.

Do total de lugares, reservou  $\frac{2}{5}$  das vagas para as pessoas que residem na capital do estado de São Paulo,  $\frac{3}{8}$  para as que moram no interior desse estado e o restante para as que residem fora dele.

Quantas vagas estão reservadas no avião para as pessoas que moram fora do estado de São Paulo?

- A 27
- B 40
- C 45
- D 74
- E 81

### QUESTÃO 149

Em 2009, o Estado de São Paulo perdeu 3 205,7 hectares de sua cobertura vegetal, área 30% menor que a desmatada em 2008, segundo balanço do projeto ambiental estratégico “Desmatamento Zero”, divulgado pela Secretaria do Meio Ambiente (SMA).

São Paulo reduz área desmatada. *Boletim Agência FAPESP*. Disponível em: <http://www.agencia.fapesp.br>. Acesso em: 26 abr. 2010.

Um hectare é uma unidade de medida de área equivalente a 100 ares. Um are, por sua vez, é equivalente a 100 m<sup>2</sup>. Logo, a área 3 205,7 hectares corresponde a

- A  $3\,205,7 \times 10^{-1} \text{ m}^2$ .
- B  $3\,205,7 \times 10 \text{ m}^2$ .
- C  $3\,205,7 \times 10^2 \text{ m}^2$ .
- D  $3\,205,7 \times 10^3 \text{ m}^2$ .
- E  $3\,205,7 \times 10^4 \text{ m}^2$ .

### QUESTÃO 150

Em uma sala de aula, três alunos resolveram fazer uma brincadeira de medição. Cada um escolheu um objeto próprio para medir o comprimento da lousa. O primeiro foi até a lousa e, usando o comprimento de um livro, verificou que era possível enfileirar 13 deles e ainda sobrava um pequeno espaço igual à metade do comprimento do livro. O segundo pegou seu lápis e começou a medir a lousa. No final, percebeu que esse comprimento era igual a 20 lápis. O terceiro, para economizar tempo, pegou uma régua graduada e mediu o comprimento do livro que o colega havia usado, obtendo 28 cm.

Com base nessas informações, qual é a medida mais aproximada do comprimento do lápis?

- A 10 cm
- B 18 cm
- C 19 cm
- D 26 cm
- E 41 cm



### QUESTÃO 151

Uma universidade decidiu promover uma coleta de informações que fornecesse dados para implementar ações destinadas à recuperação de estudantes que consumiam drogas no *campus*, cujo objetivo era reabilitar os usuários. O resultado dessa coleta é apresentado no quadro:

Tipos diferentes de drogas utilizadas	Quantidade de estudantes	Frequência relativa acumulada
0	140	0,14
1	100	0,24
2	400	0,64
3	80	0,72
4	180	0,90
5	50	0,95
6	50	1,00
Total	1 000	

A universidade tinha como objetivo que o programa atingisse, no mínimo, metade dos usuários de drogas. No entanto, antes de verificar os dados da coleta, decidiu que abriria um grupo de apoio apenas para estudantes que consumissem mais de dois tipos diferentes de droga.

De acordo com as informações anteriores, a universidade atingiu seu objetivo?

- A** Sim, porque o grupo de apoio trabalharia com 88% dos alunos envolvidos com drogas.
- B** Sim, porque o grupo de apoio trabalharia com 58% dos alunos envolvidos com drogas.
- C** Não, porque o grupo de apoio trabalharia apenas com 40% dos alunos envolvidos com drogas.
- D** Não, porque o grupo de apoio trabalharia apenas com 38% dos alunos envolvidos com drogas.
- E** Não, porque o grupo de apoio trabalharia apenas com 36% dos alunos envolvidos com drogas.

### QUESTÃO 152

Em uma fábrica de bebidas, a máquina que envasa refrigerantes é capaz de encher 150 garrafas de 2 L a cada minuto e funcionar ininterruptamente durante 8 horas por dia.

Para atender uma encomenda de 198 000 garrafas de 2 L, a máquina é colocada para funcionar todos os dias, a partir do dia 10, sempre das 8 h às 16 h.

A máquina terminará essa tarefa no dia

- A** 11, às 14 h.
- B** 12, às 14 h.
- C** 13, às 14 h.
- D** 12, às 8 h 06 min.
- E** 13, às 8 h 06 min.

### QUESTÃO 153

#### O equilíbrio na conta dos saltos

A expressão desenvolvida por cientistas ingleses relaciona as variáveis que influem na altura dos saltos femininos.

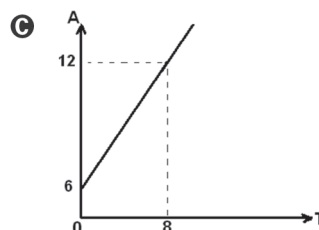
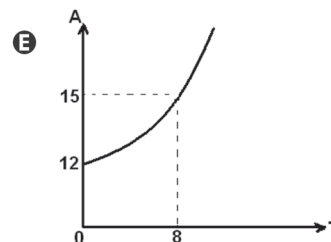
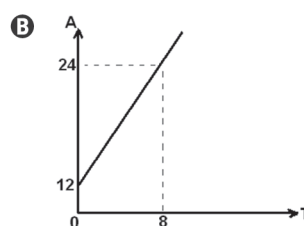
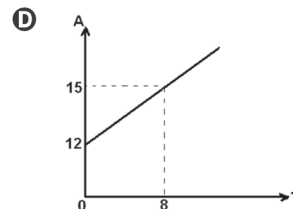
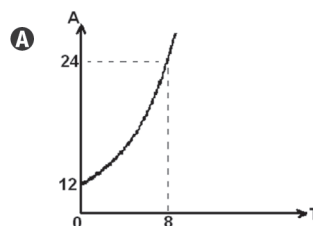
Tal expressão é dada por  $A = Q \times \left(12 + \frac{3T}{8}\right)$ , onde  $A$  é

a altura do salto,  $Q$  é um coeficiente e  $T$  o tamanho do sapato. O coeficiente  $Q$  depende de diversas variáveis, entre as quais, o impacto que o salto deve provocar nas pessoas que o vejam em uso, que pode valer de zero a 1.

Disponível em: <http://revistaescola.abril.com.br>. Acesso em: abr. 2010 (adaptado).

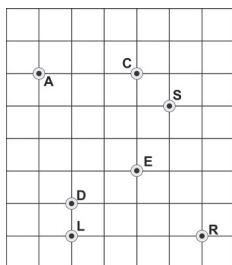
Júlia construiu corretamente o gráfico que revela o desenvolvimento da função citada no texto, considerando o coeficiente  $Q = 1$ .

Dos gráficos apresentados, fora de escala, qual foi o construído por Júlia?



**QUESTÃO 154**

No labirinto em um parque de diversões, representado pela malha quadriculada, encontram-se sete crianças: Ana, Carol, Samanta, Denise, Roberta, Eliana e Larissa, representadas por pontos, identificados pela letra inicial do nome de cada uma delas. A malha é formada por quadrados, cujos lados medem 1 cm.



Considere que cada criança pode se deslocar apenas na direção vertical ou horizontal dentro do labirinto. Desse modo, Ana encontra-se equidistante de Samanta e de

- A Carol.
- B Denise.
- C Eliana.
- D Larissa.
- E Roberta.

**QUESTÃO 155**

A taxa de inflação é um índice que aponta, em percentuais, a evolução média dos preços de mercadorias e serviços. Entretanto, cada família percebe a variação dos preços de modo particular, pois o peso de cada item no seu orçamento é diferente. Assim, se o preço dos medicamentos sobe muito, o impacto da inflação para as famílias que têm mais idosos tende a ser maior. Se o preço dos alimentos cai, o impacto da inflação para as famílias mais pobres tende a ser menor, já que boa parte de seu orçamento é gasto em alimentação.

Disponível em: <http://www.dieese.org.br> (adaptado).


Considere que os salários de determinado grupo de pessoas crescem 10,0% ao ano, mas a inflação, para esse grupo, cresce 6,0% ao ano.

O aumento percentual do poder de compra, em dois anos, das pessoas que pertencem ao referido grupo, mais aproximado, será de

- A 4,0%.
- B 7,7%.
- C 8,0%.
- D 8,6%.
- E 14,0%.

**QUESTÃO 156**

A distância atual entre os centros da Terra e de seu satélite natural (Lua) é de 384 405 km. Essa distância aumenta 4 cm por ano. O centro de gravidade do sistema (ou baricentro), formado pelos dois corpos celestes, está a 1 737 km da superfície da Terra, e essa distância diminui gradativamente. Este centro de gravidade se localizará fora da Terra em 3 bilhões de anos e, com isso, a Lua deixará de ser nosso satélite, tornando-se um planeta.



Nova Escola. Nov. 2007 (adaptado).

Quantos centímetros por ano, em média, o centro de gravidade do sistema se aproximará da superfície terrestre, até que a Lua se torne um planeta?

- A 0,0579
- B 0,5790
- C 5,7900
- D 12,8135
- E 17,2711

**QUESTÃO 157**

A renda de uma família é de R\$ 1 750,00. O dinheiro é utilizado da seguinte maneira:

- Alimentação: R\$ 600,00
- Saúde: R\$ 300,00
- Transporte: R\$ 150,00
- Educação: R\$ 350,00
- Lazer: R\$ 200,00
- Gastos eventuais: R\$ 100,00
- Poupança: R\$ 50,00

No mês de julho, o gasto com alimentação diminuiu 4%, o gasto com transporte aumentou 10% e o gasto com educação aumentou 10%.

Para continuar utilizando os R\$ 1 750,00, o que a família deverá decidir com relação ao valor destinado à poupança, mantendo as demais despesas inalteradas?

- A Aumentá-lo em 4%.
- B Aumentá-lo em 8%.
- C Aumentá-lo em 16%.
- D Diminuí-lo em 26%.
- E Diminuí-lo em 52%.



### QUESTÃO 158

Os medicamentos, imediatamente após a ingestão, começam a ser metabolizados pelo organismo, o que faz com que sua concentração no sangue diminua gradualmente, num processo denominado decaimento. Denomina-se meia-vida de uma substância o tempo necessário para que o teor dessa substância no sangue se reduza à metade do valor inicial.

Considere a situação em que um médico prescreveu a um paciente uma dosagem de 800 mg de um medicamento cuja meia-vida é 6 horas, com recomendação de tomar um comprimido a cada 12 horas, durante 3 dias. Para esse medicamento, considera-se superdosagem um teor superior a 1 520 mg, o que causa riscos de intoxicação.

Apressado em recuperar-se a tempo de ir a uma festa, o paciente sugeriu ao médico que mudasse a prescrição para 6 em 6 horas, imaginando que, assim, reduziria o tempo de tratamento. O médico contra-argumentou, informando ao paciente que, caso antecipasse as doses, correria o risco de estar intoxicado em

- A 12 horas.
- B 24 horas.
- C 36 horas.
- D 48 horas.
- E 72 horas.

### QUESTÃO 159

José e Antônio discutiam qual dos dois teria mais chances de acertar na loteria. José tinha gasto R\$ 14,00 numa aposta de 7 números na Mega-Sena, enquanto Antônio gastou R\$ 15,00 em três apostas da quina, não repetindo números em suas apostas. Na discussão, eles consideravam a chance de José acertar a quadra da Mega-Sena e de Antônio acertar o terno da Quina.

PROBABILIDADE DE ACERTO NA MEGA-SENA				
Quantidade N° Jogados	Valor de Aposta (R\$)	Probabilidade de acerto (1 em ...)		
		Sena	Quina	Quadra
6	2,00	50 063 860	154 518	2 332
7	14,00	7 151 980	44 981	1 038
8	56,00	1 787 995	17 192	539
9	168,00	595 998	7 791	312
10	420,00	238 399	3 973	195
11	924,00	108 363	2 211	129
12	1 848,00	54 182	1 317	90
13	3 432,00	29 175	828	65
14	6 006,00	16 671	544	48
15	10 010,00	10 003	370	37

PROBABILIDADE DE ACERTO NA QUINA				
Quantidade N° Jogados	Valor de Aposta (R\$)	Probabilidade de acerto (1 em ...)		
		Quina	Quadra	Terno
5	0,50	24 040 016	64 106	866
6	2,00	4 006 669	21 657	445
7	5,00	1 144 762	9 409	261

Disponível em: <http://www.caixa.com.br>. Acesso em: 29 abr. 2010 (adaptado).

Nessas condições, a razão entre as probabilidades de acerto de José e de Antônio nos menores prêmios de cada loteria é

- A  $\frac{261}{3 114}$ , o que mostra que Antônio tem mais chances de acertar.
- B  $\frac{783}{1 038}$ , o que mostra que Antônio tem mais chances de acertar.
- C  $\frac{1 038}{261}$ , o que mostra que José tem mais chances de acertar.
- D  $\frac{3 114}{261}$ , o que mostra que Antônio tem mais chances de acertar.
- E  $\frac{3 114}{261}$ , o que mostra que José tem mais chances de acertar.

### QUESTÃO 160

O responsável por realizar uma avaliação em uma escola convocou alguns professores para elaborar questões e estipulou uma meta mínima. Cada professor deveria elaborar, em média, 13 questões por dia durante uma semana. Nos seis primeiros dias, as quantidades de questões elaboradas por um professor foram 15, 12, 11, 12, 13, 14.

Para cumprir a meta mínima, a quantidade mínima de questões que o professor deverá elaborar no último dia é

- A 11.
- B 12.
- C 13.
- D 14.
- E 15.

**QUESTÃO 161**

Uma escola tem um terreno vazio no formato retangular cujo perímetro é 40 m, onde se pretende realizar uma única construção que aproveite o máximo de área possível.

Após a análise realizada por um engenheiro, este concluiu que para atingir o máximo de área do terreno com uma única construção, a obra ideal seria

- A um banheiro com 8 m<sup>2</sup>.
- B uma sala de aula com 16 m<sup>2</sup>.
- C um auditório com 36 m<sup>2</sup>.
- D um pátio com 100 m<sup>2</sup>.
- E uma quadra com 160 m<sup>2</sup>.

**QUESTÃO 162**

Observe os dados da tabela seguinte, sobre o número de ocorrências de acidente de trabalho no Brasil em 2004.

**Quantidade de acidentes de trabalho registrados no Brasil por sexo, segundo os grupos de idades em 2004**

Grupos de Idade	Total	Masculino	Feminino
Até 19 anos	17 027	14 334	2 693
20 a 24 anos	86 834	70 907	15 927
25 a 29 anos	88 463	69 561	18 902
30 a 34 anos	72 943	56 236	16 707
35 a 39 anos	63 082	47 675	15 407
40 a 44 anos	52 003	38 440	13 563
45 a 49 anos	38 400	28 294	10 106
50 a 54 anos	23 685	17 398	6 287
55 a 59 anos	11 219	8 486	2 733
60 a 64 anos	3 860	3 200	660
65 a 69 anos	964	803	161
70 anos e mais	344	274	70
<b>TOTAL</b>	<b>458 824</b>	<b>355 608</b>	<b>103 216</b>

FONTE: DATAPREV, CAT.

NOTA: Os dados são preliminares, estando sujeitos a correções.

Revista Proteção. Abr. 2010. Disponível em: <http://www.protecao.com.br> (adaptado).

O risco de acidente de trabalho de grupos de estudo é o resultado da probabilidade experimental calculada a partir de dados estatísticos. Assim sendo, considerando o disposto na tabela, qual o risco aproximado de um acidentado ser um homem com idade entre 25 e 29 anos?

- A 15%
- B 18%
- C 20%
- D 78%
- E 79%

**QUESTÃO 163**

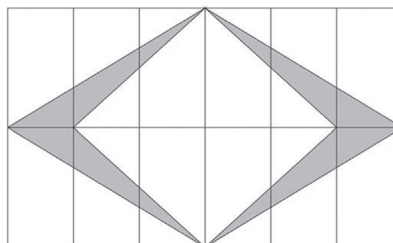
Uma cidade possui um reservatório de água C<sub>1</sub> na forma de um cilindro circular reto, com 5 metros de altura e capacidade para 100 m<sup>3</sup> de água. Foi construído outro reservatório C<sub>2</sub>, com o mesmo formato do anterior, com a mesma altura, cujo raio da base é o dobro de C<sub>1</sub>.

Nessas condições, a razão entre os volumes de C<sub>1</sub> e de C<sub>2</sub> é igual a

- A 2
- B 1
- C  $\frac{1}{2}$
- D  $\frac{1}{4}$
- E  $\frac{1}{8}$

**QUESTÃO 164**

Em uma cidade, a cada inauguração de prédios, a orientação da prefeitura, por meio de uma lei de incentivo à cultura, é a construção de uma obra de arte na entrada ou no *hall* desse prédio. Em contrapartida, a prefeitura oferece abatimento em impostos. No edifício das Acácias, o artista contratado resolveu fazer um quadro composto de 12 mosaicos, de dimensões de 12 cm por 6 cm cada um, conforme a figura.



A área da figura sombreada do quadro é de

- A 36 cm<sup>2</sup>.
- B 72 cm<sup>2</sup>.
- C 144 cm<sup>2</sup>.
- D 288 cm<sup>2</sup>.
- E 432 cm<sup>2</sup>.

**QUESTÃO 165**

Um curso preparatório oferece aulas de 8 disciplinas distintas. Um aluno, ao se matricular, escolhe de 3 a 8 disciplinas para cursar. O preço P, em reais, da mensalidade é calculado pela fórmula

$$P(n) = 980 - \frac{1680}{n}$$

onde n é o número de disciplinas

escolhidas pelo aluno.

Alex deseja matricular seu filho Júlio e, consultando seu orçamento familiar mensal, avaliou que poderia pagar uma mensalidade de, no máximo, R\$ 720,00.

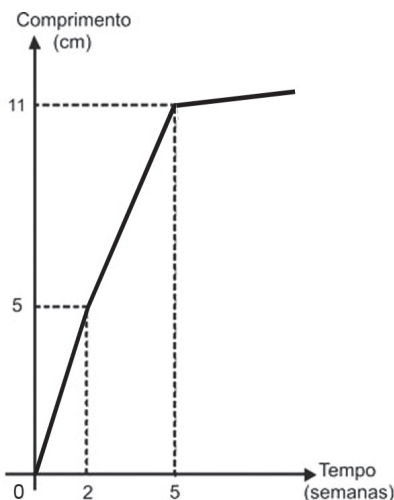
O número máximo de disciplinas que Júlio poderá escolher ao se matricular nesse curso, sem estourar o orçamento familiar, é igual a

- A 3.
- B 4.
- C 6.
- D 7.
- E 8.



**QUESTÃO 166**

Um administrador de um campo de futebol deseja recobri-lo com um tipo de grama que, em condições normais, cresce de acordo com o gráfico a seguir.



Ele precisa ter o campo pronto no dia 11 de junho de 2012, e o comprimento mínimo da grama nesse dia deve ser igual a 7 cm.

Supondo-se que o crescimento da grama se dê em condições normais, a grama deve ser plantada, no máximo, até o dia

- A** 17 de maio de 2012.
- B** 21 de maio de 2012.
- C** 23 de maio de 2012.
- D** 8 de junho de 2012.
- E** 9 de junho de 2012.

**QUESTÃO 167**

As fábricas de pneus utilizam-se de modelos matemáticos próprios em sua produção, para a adaptação dos vários tipos de pneus aos veículos: de bicicletas a caminhões, tratores e aviões. Um dos conceitos utilizados pela indústria é o de "índice de carga", que está relacionado à carga máxima que pode ser suportada por um pneu. Uma empresa fabricante de pneus apresenta o seguinte quadro, relativo às cargas máximas suportadas por pneus cujos índices variam de 70 a 80. Há um comportamento regular em alguns intervalos, como se observa entre os índices de 70 a 74.

ÍNDICE DE CARGA	CARGA MÁXIMA (kg)
70	335
71	345
72	355
73	365
74	375
75	387
76	400
77	412
78	425
79	437
80	450

Disponível em: <http://www.goodyear.com.br>. Acesso em: 27 abr. 2010 (adaptado).

Qual equação representa a dependência entre o índice de carga ( $I$ ) e a carga máxima ( $C$ ), em kg, no intervalo de 70 a 74?

- A**  $I = \frac{C}{10} - 70$
- B**  $I = \frac{C}{10} + 36,5$
- C**  $I = \frac{C}{10} - 328$
- D**  $I = 10C - 3280$
- E**  $I = 10C - 70$

**QUESTÃO 168**

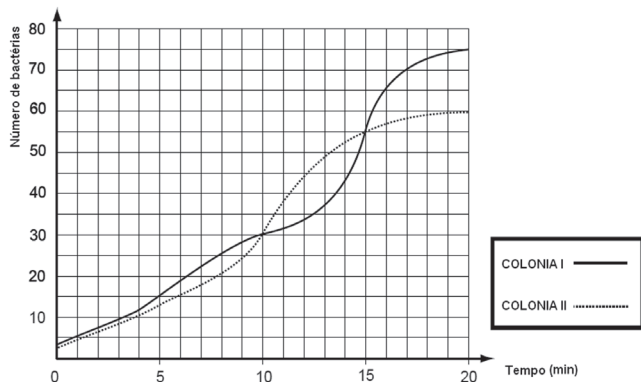
No Brasil, costumamos medir temperaturas utilizando a escala Celsius. Os países de língua inglesa utilizam a escala Fahrenheit. A relação entre essas duas escalas é dada pela expressão  $F = C \times 1,8 + 32$ , em que  $F$  representa a medida da temperatura na escala Fahrenheit e  $C$  a medida da temperatura na escala Celsius.

O gráfico que representa a relação entre essas duas grandezas é

- A**
- B**
- C**
- D**
- E**

**QUESTÃO 169**

Um pesquisador analisava duas culturas diferentes com o objetivo de verificar como ocorria a evolução, ao longo do tempo, do crescimento do número de bactérias presentes em cada uma das culturas, sob certas condições. Esta evolução foi representada no gráfico a seguir:



Em que intervalo de tempo o número de bactérias na colônia II foi maior do que o número de bactérias na colônia I?

- A** De 0 a 10 minutos.
- B** De 10 a 15 minutos.
- C** De 15 a 20 minutos.
- D** De 30 a 55 minutos.
- E** De 55 a 75 minutos.

**QUESTÃO 170**

O salário-mínimo — menor salário que um trabalhador pode receber — é estabelecido por lei e reavaliado todos os anos com base no custo de vida da população.

Disponível em: <http://www.brasilecola.com>. Acesso em: 2 maio 2010 (adaptado).

A tabela apresenta uma série histórica do salário-mínimo no Brasil:

Ano	R\$
1994	70,00
1999	136,00
2003	240,00
2008	415,00

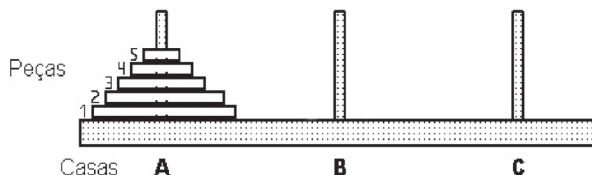
BANCO CENTRAL DO BRASIL. Disponível em: <http://www.ibge.gov.br>. Acesso em: 28 abr. 2010 (adaptado).

Que número inteiro representa, o valor mais aproximado do aumento sofrido pelo salário-mínimo, de 1994 a 2008, em pontos percentuais?

- A** 14
- B** 38
- C** 67
- D** 265
- E** 493

**QUESTÃO 171**

A torre de Hanói é um jogo que tem o objetivo de mover todos os discos de uma haste para outra, utilizando o menor número possível de movimento, respeitando-se as regras.



As regras são:

- 1- um disco maior não pode ser colocado sobre um disco menor;
- 2- pode-se mover um único disco por vez;
- 3- um disco deve estar sempre em uma das três hastes ou em movimento.

Disponível em: <http://www.realidadevirtual.com.br>. Acesso em: 28 abr. 2010 (adaptado).  
Disponível em: <http://www.imeusp.br>. Acesso em: 28 abr. 2010 (adaptado).

Usando a torre de Hanói e baseando-se nas regras do jogo, podemos montar uma tabela entre o número de peças (X) e o número mínimo de movimentos (Y):

Número de peças	Número mínimo de movimentos
1	1
2	3
3	7
4	15

A relação entre (X) e (Y) é

- A**  $Y = 2^X - 1$
- B**  $Y = 2^{X-1}$
- C**  $Y = 2^X$
- D**  $Y = 2X - 1$
- E**  $Y = 2X - 4$

**QUESTÃO 172**

O quadro indica a quantidade de pontos marcados, em quatro partidas, por cinco jogadores de uma mesma equipe de basquete.

jogador	1ª partida	2ª partida	3ª partida	4ª partida
<b>A</b>	31	22	18	9
<b>B</b>	15	25	25	15
<b>C</b>	20	23	19	18
<b>D</b>	18	22	24	16
<b>E</b>	17	19	20	24

Como todos os jogadores obtiveram a mesma média de pontos por partida, para definir quem, entre os cinco atletas, foi o de melhor rendimento, o técnico da equipe resolveu escolher aquele de maior regularidade.

Dessa forma, ele escolheu o jogador

- A** A.
- B** B.
- C** C.
- D** D.
- E** E.

**QUESTÃO 173**

Fabiana Murer garante mais uma medalha de ouro na Noruega. A atleta brasileira saltou 4,60 m na etapa da *Diamond League* e terminou em primeiro lugar na disputa. Ela ainda é detentora da melhor marca do ano. Ao final da prova, a classificação dos quatro melhores resultados foi:

- 1º lugar: Fabiana Murer (BRA) – 4,60 m
- 2º lugar: Aleksandra Kiryashiva (RUS) – 4,50 m
- 3º lugar: Anna Rogowska (POL) – 4,40 m
- 4º lugar: Monika Pyrek (POL) – 4,30 m

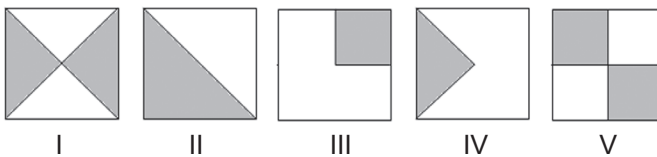
Disponível em: <http://www.globoesporte.globo.com>. Acesso em: 24 jun. 2011 (adaptado).

A diferença entre as marcas da 1ª e da 4ª colocadas pode ser comparada com a altura de um animal adulto. Que animal é esse?

- A Gato.
- B Leão.
- C Pulga.
- D Elefante.
- E Gafanhoto.

**QUESTÃO 174**

Numa sementeira, cinco canteiros quadrados serão preparados para plantar, em cada um, dois tipos de sementes: A e B. Os canteiros estão representados segundo as figuras:



Suponha que cada canteiro tem 1 m² de área e que nas regiões sombreadas de cada canteiro serão plantadas as sementes do tipo A. Qual o total da área, em m², reservada para as sementes do tipo B?

- A 1,25
- B 2
- C 2,5
- D 3
- E 5

**QUESTÃO 175**

Toda a esfera visível ao longo do ano, nos hemisférios celestes Norte e Sul, está dividida em 88 partes, incluindo, cada uma delas, um número variável de estrelas. A unidade de medida utilizada pelos astrônomos para calcular a área de uma constelação é o grau quadrado. Algumas constelações são imensas, como Eridano, o rio celeste, localizada no hemisfério celeste Sul e ocupa uma área de 1 138 graus quadrados. Em contraponto, a constelação Norma, localizada no mesmo hemisfério, não passa de 165 graus quadrados.

CAPOZZOLI, U. Origem e Evolução das Constelações. *Scientific American Brasil*. Nº 2. 2010.

Em um mapa do hemisfério celestial feito em uma escala de 1:1 000, as constelações Eridano e Norma ocuparão, respectivamente, uma área, em graus quadrados, de

- A 0,1138 e 0,0165.
- B 0,1138 e 0,165.
- C 1,138 e 0,165.
- D 11 380 e 1 650.
- E 1 138 000 e 165 000.

**QUESTÃO 176**

Célia é uma confeitadora renomada na pequena cidade onde mora. Herdou de sua avó uma receita de brigadeiro que faz o maior sucesso. Os ingredientes da receita enchem sempre uma panela, de forma cilíndrica, com 40 cm de altura e 30 cm de diâmetro. Para inovar e atrair mais clientes, em vez de vender os brigadeiros na forma de “bolinhas”, Célia tem feito brigadeiros em forma de cones. Para isso, utiliza forminhas cônicas de 5 cm de altura e raio da base de 1,5 cm.

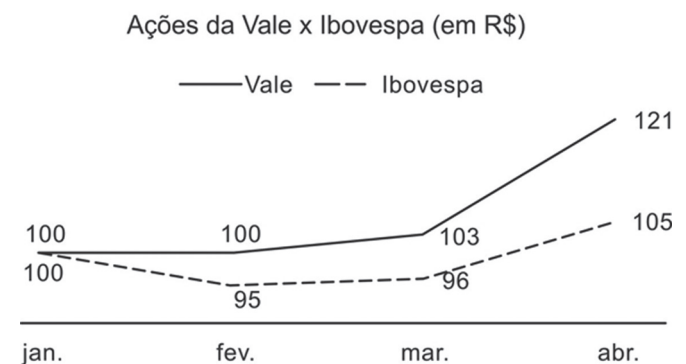
A cada receita produzida, a quantidade de cones de brigadeiro que Célia consegue obter é

$$\left( V_{\text{cilindro}} = \pi R^2 h \text{ e } V_{\text{cone}} = \frac{\pi R^2 h}{3} \right)$$

- A 600 unidades.
- B 800 unidades.
- C 2 400 unidades.
- D 3 200 unidades.
- E 9 600 unidades.

**QUESTÃO 177**

O gráfico faz uma comparação entre os crescimentos das ações da Vale e da Ibovespa de janeiro a abril de 2010.



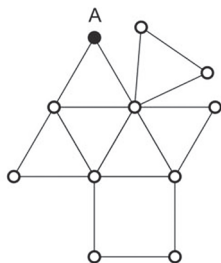
Exame. 21 abr. 2010.

De acordo com as informações do gráfico, o crescimento das ações da Vale e da Ibovespa no período de janeiro a abril de 2010 foram, respectivamente, de

- A 5,0% e 21,0%.
- B 10,5% e 21,0%.
- C 21,0% e 5,0%.
- D 21,0% e 10,5%.
- E 27,4% e 5,0%.

**QUESTÃO 178**

Um caminhão precisa recolher o lixo das ruas de um certo bairro. Por questões econômicas e ambientais, a empresa IMJ, responsável pela coleta, planeja as rotas de recolhimento, de modo que o caminhão percorra a menor distância possível, passando em cada rua exatamente uma vez, entrando e saindo de cada ponto. Quando isso não é possível, busca-se repetir o menor número possível de ruas na rota. Na figura, temos um esquema no qual os pontos representam esquinas, e as linhas representam as ruas.




Considere que cada rua mede 150 m de comprimento e que a rota do caminhão comece e termine no ponto A, passando por todas as ruas do esquema.

A empresa conseguiu encontrar a melhor rota de recolhimento de lixo, na qual o caminhão percorre uma distância igual a

- A 2 400 m.
- B 2 550 m.
- C 2 700 m.
- D 2 850 m.
- E 3 300 m.

**QUESTÃO 179**

Na zona rural, a utilização de unidades de medida como o hectare é bastante comum. O hectare equivale à área de um quadrado de lado igual a 100 metros. Na figura, há a representação de um terreno por meio da área em destaque. Nesta figura, cada quadrado que compõe esta malha representa uma área de 1 hectare.



O terreno em destaque foi comercializado pelo valor R\$ 3 600 000,00. O valor do metro quadrado desse terreno foi de

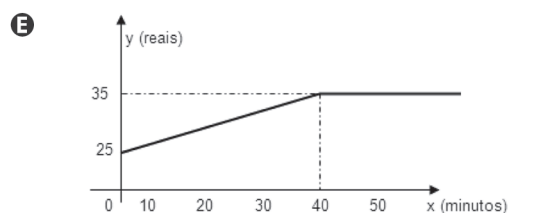
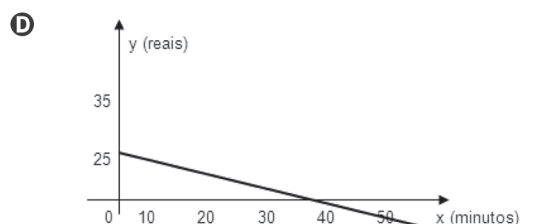
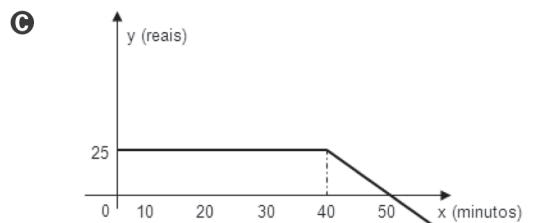
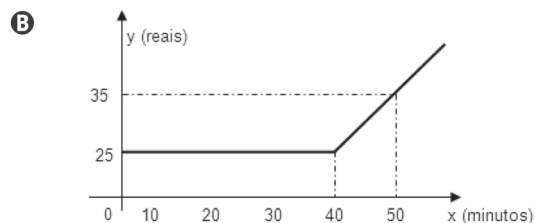
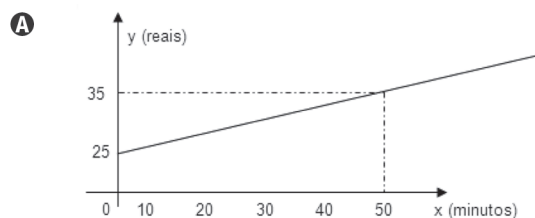
- A R\$ 30,00.
- B R\$ 300,00.
- C R\$ 360,00.
- D R\$ 3 600,00.
- E R\$ 300 000,00.

**QUESTÃO 180**

De acordo com os números divulgados pela Agência Nacional de Telecomunicações (Anatel), já há no país 91 celulares em cada grupo de 100 pessoas. Entre as várias operadoras existentes, uma propõe o seguinte plano aos seus clientes: R\$ 25,00 mensais para até 40 minutos de conversação mensal e R\$ 1,00 por minuto que exceda o tempo estipulado.

Disponível em: <http://www.economia.ig.com.br>. Acesso em: 28 abr. 2010 (adaptado).

Qual dos gráficos a seguir corresponde aos possíveis gastos mensais ( $y$ ), em reais, de um cliente dessa operadora de celular, em função do tempo ( $x$ ) utilizado, em minutos?





Transcreva a sua Redação para a Folha de Redação.

1
2
3
4
5
6
7
8
9
10
11
12
13
14
15
16
17
18
19
20
21
22
23
24
25
26
27
28
29
30

RASCUNHO DA REDAÇÃO